



CROCE ROSSA ITALIANA COMITATO CENTRALE






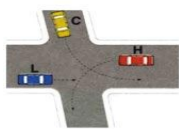

**Nuove schede quiz a risposta multipla di
preparazione all'esame per il conseguimento
della
Patente C.R.I. mod. 138/05**



CROCE ROSSA ITALIANA COMITATO CENTRALE

1

Per ciascuna risposta **V** se ritenuta vera **F** se ritenuta falsa



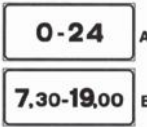


	1) La distanza di sicurezza di un veicolo rispetto al veicolo che precede deve essere:		
	1) Tale da evitare collisioni con i veicoli che precedono	V	F
	2) In relazione al numero di corsie sulla strada	V	F
	3) Di almeno 100 mt. nelle forti discese	V	F
	2) In caso di pioggia occorre:		
	1) Evitare l'appannamento dei vetri	V	F
	2) Impiegare con prudenza gli indicatori di direzione	V	F
	3) Manovrare con prudenza lo sterzo	V	F
40		3) Il segnale n. 40:	
	1) Ha valore quando il semaforo funziona a luce lampeggiante	V	F
	2) Può essere preceduto dal preavviso DARE PRECEDENZA	V	F
	3) Lungo le autostrade è posto a distanza di 150 mt. dall'area di servizio	V	F
26		4) Il segnale n. 26:	
	1) Presegnala una zona riservata al pascolo con divieto di transito ai veicoli a motore	V	F
	2) Presegnala la possibilità di trovare sulle strade animali vaganti	V	F
	3) Presegnala una strada di campagna	V	F
109		5) Il segnale n. 109:	
	1) Indica la fine del percorso pedonale	V	F
	2) Indica la fine di un' area riservata ai pedoni	V	F
	3) È un divieto di transito dei pedoni	V	F
618		6) È consentito attraversare l'incrocio in figura n. 618 secondo l'ordine:	
	1) Per primo il veicolo H, poi il veicolo C, per ultimo il veicolo L	V	F
	2) Per primo il veicolo L, poi quello C, per ultimo H	V	F
	3) Il veicolo C, dopo il veicolo L, ma prima del veicolo H	V	F
718		7) Il simbolo rappresentato nella figura 718:	
	1) È posto sul comando di accensione delle luci posteriori per nebbia	V	F
	2) È posto sul comando di accensione dei fendinebbia anteriori	V	F
	3) Individua una spia luminosa di colore giallo	V	F
	8) I catadiottri:		
	1) Sono dispositivi a luce riflessa	V	F
	2) Debbono essere accesi mezz'ora dopo il tramonto del sole	V	F
	3) Possono essere anteriori, laterali e posteriori	V	F
	9) Quante persone si possono trasportare su un' ambulanza?		
	1) Il numero di persone indicate sulla carta di circolazione	V	F
	2) In base al numero di sedili presenti sul mezzo	V	F
	3) Secondo il numero dei sedili del mezzo più un bambino	V	F
	10) La sosta del mezzo sulla strada, durante l'espletamento di un servizio urgente d'istituto deve essere?		
	1) Atta a garantire una rapida ripartenza verso l'ospedale	V	F
	2) Nel rispetto della segnaletica presente sul posto	V	F
	3) Congrua da scagionare eventuali rischi dinamici del luogo	V	F



CROCE ROSSA ITALIANA COMITATO CENTRALE

2

Per ciascuna risposta **V** se ritenuta vera **F** se ritenuta falsa




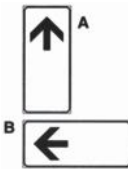

84		1) Il segnale n. 84:		
		1) Consente la sosta nel tratto precedente	V	F
		2) Opportunamente integrato, può vietare la sosta, nei centri abitati dalle 0 alle 24	V	F
		3) Può sempre comportare la rimozione del veicolo	V	F
302		2) Il pannello a strisce diagonali alternate bianche e rosse (fig. 302):		
		1) Deve essere posto alle due estremità del carico se sporge per tutta la larghezza del veicolo	V	F
		2) Può essere posto sui veicoli in avaria quando vengono trainati	V	F
		3) Di notte può essere sostituito da una luce rossa fissa	V	F
123		3) Il segnale n. 123:		
		1) Indica l'intervallo di lunghezza dei veicoli per i quali è vietato transitare	V	F
		2) Indica la distanza di sicurezza minima e massima tra i veicoli	V	F
		3) Posto sotto il segnale DIVIETO DI SOSTA indica la fascia di ore di esenzione	V	F
		4) Su tutte le strade (e loro pertinenze) è vietato:		
		1) Danneggiare le opere e gli impianti che ad esse appartengono	V	F
		2) Accedere con le ruote dei veicoli sporche di fango	V	F
		3) Transitare nelle zone riservate al parcheggio	V	F
		5) La distanza di sicurezza:		
		1) È la minima che si deve mantenere dal veicolo che ci precede	V	F
		2) Dipende dalla velocità del veicolo che segue	V	F
		3) È sempre uguale alla distanza di visibilità	V	F
17		6) Il segnale n. 17:		
		1) Richiede di mantenere una maggior distanza di sicurezza dal veicolo che ci precede	V	F
		2) Indica l'entità della pendenza di una salita ripida	V	F
		3) Presegna un tratto di strada da percorrere a motore spento	V	F
565		7) Con la segnaletica orizzontale indicata in figura n. 565:		
		1) La corsia B consente di proseguire dritto e svoltare a sinistra	V	F
		2) Solo la corsia C consente di effettuare la svolta a destra	V	F
		3) Solo la corsia A consente di effettuare la svolta a sinistra	V	F
		8) Durante la marcia, l'uso delle luci di posizione è sufficiente:		
		1) Di notte quando manca l'illuminazione pubblica	V	F
		2) Nelle gallerie extraurbane non sufficientemente illuminate	V	F
		3) Di giorno, nelle gallerie urbane sufficientemente illuminate	V	F
		9) Durante l'espletamento di un servizio urgente si accende la spia della pressione dell'olio, cosa si deve fare?		
		1) Si prosegue portando a termine il servizio in corso	V	F
		2) Ci si ferma alla prima officina per fare controllare il mezzo	V	F
		3) Si fa intervenire un'altra unità di soccorso prima di ogni altra manovra	V	F
		10) È possibile trainare un'ambulanza?		
		1) Sì, sempre	V	F
		2) Sì, quando non ci sono malati a bordo, rispettando le norme del codice	V	F
		3) No, mai	V	F



CROCE ROSSA ITALIANA COMITATO CENTRALE

3

Per ciascuna risposta **V** se ritenuta vera **F** se ritenuta falsa

25 	1) In presenza del segnale n. 25, è necessario:		
	1) Fare attenzione ai bambini sulla carreggiata e non a quelli sul marciapiede	V	F
	2) Prestare particolare attenzione per la possibile presenza di bambini	V	F
	3) Tenere presente che è vietato effettuare la sosta	V	F
	2) Dopo un incidente stradale occorre:		
	1) Mettere l'apposito segnale di veicolo fermo, nei casi previsti dal codice	V	F
	2) Mettere il " triangolo" sul lunotto posteriore del veicolo, prima di andare via	V	F
	3) Allontanare al più presto, ove possibile, il veicolo fuori della carreggiata	V	F
	3) Nella fase di sorpasso il conducente è tenuto:		
	1) A lasciare un margine di sicurezza proporzionato alla velocità dei due veicoli	V	F
	2) Avvicinarsi il più possibile al veicolo che precede	V	F
	3) Mantenere in ogni caso la stessa marcia ed accelerare a fondo	V	F
256 	4) Il segnale n. 256:		
	1) Segnala una corsia riservata ad autobus extraurbani	V	F
	2) Indica le fermate degli autobus di pubblico trasporto extraurbani	V	F
	3) Indica una stazione di servizio per autobus	V	F
103 	5) Il segnale n. 103:		
	1) Indica i passaggi consentiti a destra e a sinistra di un'isola di traffico	V	F
	2) Consente ai conducenti di passare sia a destra che a sinistra di un salvagente	V	F
	3) Indica la circolazione rotatoria consentita nei due sensi	V	F
128 	6) Ciascuno dei pannelli integrativi n. 128:		
	1) Indica la corsia preferenziale per i taxi	V	F
	2) Posto sotto un segnale indica la fine della prescrizione	V	F
	3) Posto sotto il segnale di DIVIETO DI SOSTA indica il punto d'inizio	V	F
	7) Si debbono usare gli indicatori di direzione:		
	1) Ogni volta che si deve effettuare una manovra di svolta	V	F
	2) Mai, quando si marcia su una strada a senso unico	V	F
	3) Se si viaggia su strada suddivisa in corsie, prima di cambiarla	V	F
717 	8) Il simbolo rappresentato nella figura n. 717:		
	1) È posto sul comando di accensione delle luci posteriori per nebbia	V	F
	2) Individua una spia luminosa di colore verde	V	F
	3) È posto sul comando di accensione dei fendinebbia anteriori	V	F
	9) Da chi viene decisa la velocità di un'ambulanza?		
	1) Dall'autista	V	F
	2) Da chi si trova vicino al trasportato	V	F
	3) Dall'autista, seguendo le indicazioni dei barellieri	V	F
	10) In caso di incidente, il conducente di ambulanza deve:		
	1) Accompagnare l'infortunato a casa dietro sua espressa richiesta	V	F
	2) Trasportare l'infortunato presso la più vicina casa di cura	V	F
	3) Trasportare l'infortunato presso l'Ospedale di competenza	V	F



Per ciascuna risposta **V** se ritenuta vera **F** se ritenuta falsa

	1) Il segnale n. 1:		
	1) Presegnala un percorso di montagna	V	F
	2) Presegnala un tratto di strada deformata	V	F
	3) Può essere accoppiato con un segnale di limite massimo di velocità	V	F
	2) Gli ammortizzatori scarichi provocano:		
	1) Usura non uniforme del battistrada dei pneumatici	V	F
	2) Un anomalo funzionamento del motore	V	F
	3) La possibile rottura delle molle delle sospensioni	V	F
	3) Il segnale n. 54:		
	1) Vieta la circolazione nei due sensi	V	F
	2) Vieta il transito a tutti i veicoli	V	F
	3) Vieta la circolazione anche ai ciclomotori	V	F
	4) Lo spazio minimo totale di arresto di un veicolo:		
	1) Diminuisce se aumenta la prontezza di riflessi del conducente	V	F
	2) Si ottiene bloccando le ruote	V	F
	3) Aumenta con l'aumentare della velocità del veicolo	V	F
	5) Nell'incrocio rappresentato in figura n. 604:		
	1) Il veicolo D può passare prima del veicolo R	V	F
	2) Il veicolo R può passare per primo	V	F
	3) I veicoli transitano nel seguente ordine: D, A, R	V	F
	6) Il proiettore acceso così come lo si vede nella figura n. 690:		
	1) È a luce abbagliante	V	F
	2) Ha un fascio luminoso per illuminare la strada a grande distanza	V	F
	3) Ha un fascio luminoso che non colpisce direttamente i veicoli incrociati	V	F
	7) Il segnale n. 199:		
	1) Identifica le strade extraurbane	V	F
	2) Indica l'uscita n. 55	V	F
	3) Indica un itinerario internazionale	V	F
	8) Il simbolo rappresentato nella figura n. 696:		
	1) È posto su una spia a luce blu	V	F
	2) È posto sul comando dei proiettori anabbaglianti	V	F
	3) Indica il comando dei fendinebbia	V	F
	9) Durante l'espletamento di un servizio urgente d'istituto, quali dispositivi supplementari devo usare?		
	1) Luci di emergenza accese e lampeggianti blu	V	F
	2) Lampeggianti blu, sirena in maniera simultanea e continuativa	V	F
	3) Lampeggianti blu, sirena e luci anabbaglianti	V	F
	10) Per effettuare una chiamata radio da un mezzo CRI ad una postazione fissa devo?		
	1) Ripetere due volte il mio identificativo e poi quello di chi si chiama	V	F
	2) Chiamare prima il codice del chiamato poi la propria sigla	V	F
	3) Utilizzare, se conosciuta, la codifica del terminale chiamato	V	F

Per ciascuna risposta **V** se ritenuta vera **F** se ritenuta falsa

2 	1) Il segnale n. 2:		
	1) Presegnala una cunetta	V	F
	2) Presegnala un tratto di strada deformata	V	F
	3) Presegnala un dosso	V	F
	2) Perché gli organi dello sterzo contribuiscano alla sicurezza della circolazione:		
	1) I pneumatici devono essere tenuti a bassa pressione per aumentare l'aderenza	V	F
	2) Non debbono esistere giochi anomali nel meccanismo dello sterzo	V	F
	3) È necessario guidare il più vicino possibile al volante	V	F
55 	3) Il segnale n. 55:		
	1) Consente l'accesso ai motocicli	V	F
	2) Vieta di entrare in una strada accessibile invece dall'altra parte	V	F
	3) Consente l'accesso alle biciclette	V	F
	4) Per arrestare il veicolo nello spazio minimo, bisogna:		
	1) Intervenire con energia sul pedale del freno innestando la marcia più alta	V	F
	2) Caricare il veicolo senza superare la massa massima autorizzata	V	F
	3) Intervenire energeticamente sul pedale del freno, evitando in ogni caso il bloccaggio delle ruote	V	F
606 	5) Dovendo attraversare l'incrocio rappresentato in figura n. 606:		
	1) Il veicolo E può transitare per primo	V	F
	2) Il veicolo C può transitare subito dopo il veicolo E	V	F
	3) Il veicolo M può transitare per primo	V	F
694 	6) Il proiettore acceso così come lo si vede nella figura n. 694:		
	1) È a luce anabbagliante, ma la lampada è montata in maniera errata	V	F
	2) Ha un fascio luminoso che non colpisce direttamente i veicoli incrociati	V	F
	3) Ha un fascio luminoso per illuminare la strada a grande distanza	V	F
200 	7) Il segnale n. 200:		
	1) Identifica un autostrada	V	F
	2) Può integrare un segnale di preavviso di diramazione autostradale	V	F
	3) Può essere incluso in un segnale di preselezione per bivio autostradale	V	F
695 	8) Il simbolo rappresentato nella figura n. 695:		
	1) È posto sul comando dei proiettori di profondità	V	F
	2) È il simbolo di una spia luminosa di colore verde	V	F
	3) Indica il comando di accensione delle luci di profondità	V	F
	9) Cosa si deve fare alla guida di un'ambulanza durante un servizio urgente, all'intimazione di ALT da parte delle forze dell'ordine?		
	1) Occorre fermarsi	V	F
	2) Non si è tenuti a fermarsi	V	F
	3) Si può proseguire il servizio e la polizia potrà seguire l'ambulanza	V	F
	10) Come si deve comportare un conducente di ambulanza quando i pedoni tardano a scansarsi?		
	1) Deve azionare i dispositivi di allarme senza aumentare la velocità	V	F
	2) Deve fermarsi solo se i pedoni sono su un attraversamento pedonale	V	F
	3) Deve in ogni caso rallentare e all'occorrenza fermarsi	V	F

Per ciascuna risposta **V** se ritenuta vera **F** se ritenuta falsa

3 	1) Il segnale n. 3:		
	1) Indica una banchina cedevole	V	F
	2) Presegnala una strada deformata	V	F
	3) Presegnala un tratto di strada in cattivo stato	V	F
	2) Se lo sterzo vibra fortemente:		
	1) Può dipendere da eccessivi giochi ai comandi dello sterzo	V	F
	2) Può dipendere da diversa pressione dei pneumatici delle ruote diretrici	V	F
	3) Può dipendere dalle ruote di dimensioni non regolamentari	V	F
57 	3) Il segnale n. 57:		
	1) Obbliga i veicoli a marciare a meno di 70 metri di distanza l'uno dall'altro	V	F
	2) Prescrive di accostarsi al veicolo che precede lasciando libero uno spazio inferiore a 70 metri	V	F
	3) Vieta di seguire il veicolo che precede ad una distanza inferiore a quella indicata	V	F
	4) La distanza di sicurezza:		
	1) È la minima che si deve mantenere dal veicolo che ci precede	V	F
	2) Non dipende dal conducente	V	F
	3) È una distanza fissa	V	F
607 	5) Nell'intersezione rappresentata nella figura n. 607:		
	1) Il veicolo T transita per primo	V	F
	2) Il veicolo M ha la precedenza perché è in servizio pubblico	V	F
	3) I veicoli transitano nel seguente ordine: T, M, P	V	F
693 	6) Il proiettore così come lo si vede nella figura n. 693:		
	1) Emette luce verso il basso e verso destra	V	F
	2) È a luce anabbagliante, ma la lampada è montata in maniera errata	V	F
	3) È un proiettore a luce anabbagliante, ma la lampada è rovesciata	V	F
201 	7) Il segnale n. 201:		
	1) Indica il numero di una strada di scorrimento	V	F
	2) Identifica il tipo di strada percorsa	V	F
	3) Indica una strada sdruciolevole per 2 chilometri	V	F
697 	8) Il simbolo rappresentato nella figura n. 697:		
	1) Individua il comando degli indicatori di direzione	V	F
	2) È posto su una spia di colore verde	V	F
	3) È riprodotto sulla spia, a luce pulsante, di indicatori di direzione in funzione	V	F
	9) Da chi dovrebbe essere composto l'equipaggio tipo per trasporti non urgenti, secondo il regolamento?		
	1) Autista	V	F
	2) Autista e barelliere	V	F
	3) Autista e due barellieri	V	F
	10) Un'ambulanza che provenga da sinistra, ha la precedenza?		
	1) Sì, sempre	V	F
	2) La chiede solo quando ha in funzione i dispositivi di allarme	V	F
	3) No, in nessun caso	V	F



Per ciascuna risposta **V** se ritenuta vera **F** se ritenuta falsa

4		1) Il segnale n. 4:		
		1) Presegnala una curva pericolosa a destra	V	F
		2) Presegnala una serie di curve pericolose di cui la prima a destra	V	F
		3) Può essere integrato con un pannello recante la scritta TORNANTE	V	F
		2) Una frenatura poco efficiente o squilibrata può essere causata:		
		1) Dal carico erroneamente ripartito o eccessivo	V	F
		2) Da una anomalia dell'impianto frenante	V	F
		3) Dal consumo eccessivo dei denti del freno a mano	V	F
59		3) Il segnale n. 59:		
		1) Vieta l'uso di avvisatori acustici	V	F
		2) Obbliga ad usare il clacson ogni volta le circostanze lo consiglino	V	F
		3) Vieta le segnalazioni acustiche	V	F
		4) La distanza di sicurezza:		
		1) Deve essere maggiore se si percorre la corsia d'emergenza	V	F
		2) Deve essere tale da evitare collisioni con il veicolo che precede	V	F
		3) Deve essere uguale allo spazio di frenatura del veicolo	V	F
608		5) Nella situazione rappresentata in figura n. 608:		
		1) Il veicolo B non ha obblighi di precedenza	V	F
		2) Il veicolo H passa per primo	V	F
		3) Il veicolo H può passare per secondo	V	F
		6) La targa posteriore deve essere illuminata:		
		1) Nelle gallerie stradali, solo se non sufficientemente illuminate	V	F
		2) Solo se si circola di notte	V	F
		3) Di notte per permettere l'identificazione del veicolo	V	F
216		7) Il segnale n. 216:		
		1) È posto in un luogo soggetto ad inondazione	V	F
		2) Si trova in prossimità del fiume Arno	V	F
		3) Indica il nome del fiume in vicinanza del ponte che lo attraversa	V	F
698		8) Il simbolo rappresentato nella figura n. 698:		
		1) Identifica il comando del dispositivo di accensione dei proiettori	V	F
		2) Indica il comando del segnale di emergenza	V	F
		3) È posto sull'interruttore che accende simultaneamente tutti gli indicatori di direzione	V	F
		9) Durante il trasporto di un malato, è consentito al barelliere di sedere accanto all'autista?		
		1) Sì, se il malato non è grave ed è accompagnato dai parenti	V	F
		2) No, mai	V	F
		3) Sì, se il malato non è in pericolo di vita	V	F
		10) Come deve essere la velocità nelle ore notturne?		
		1) Particolarmente moderata	V	F
		2) La stessa delle ore diurne	V	F
		3) Non particolarmente moderata perché il traffico è meno intenso	V	F

Per ciascuna risposta **V** se ritenuta vera **F** se ritenuta falsa

6 	1) Il segnale n. 6:		
	1) Presegnala una doppia curva, la prima a destra	V	F
	2) Può essere integrato con un pannello indicante TORNANTI	V	F
	3) Vieta la svolta a destra	V	F
	2) Per controllare lo sbandamento del veicolo è opportuno:		
	1) Frenare immediatamente	V	F
	2) Se in frenata, ridurre lo sforzo frenante	V	F
	3) Innestare una marcia inferiore e lasciare bruscamente la frizione	V	F
56 	3) Il segnale n. 56:		
	1) Consente la marcia di autovetture per file parallele	V	F
	2) Vieta il sorpasso tra autovetture solo se si valica la riga continua	V	F
	3) Consente ad una autovettura di sorpassare un motociclo	V	F
	4) La distanza di sicurezza tra due veicoli deve essere sempre stabilita:		
	1) In modo da garantire l'arresto tempestivo ed evitare collisioni con il veicolo che precede	V	F
	2) In relazione al numero di corsie della strada	V	F
	3) In relazione alle variazioni di pendenza della strada	V	F
613 	5) Secondo le norme di precedenza nell'incrocio rappresentato in figura n. 613:		
	1) Il veicolo T passa per primo	V	F
	2) Il veicolo A deve attendere il transito del veicolo O	V	F
	3) Il veicolo T deve attendere il transito del veicolo O	V	F
	6) Durante la marcia, l'uso dei proiettori a luce abbagliante:		
	1) È prescritto fuori città quando l'illuminazione pubblica manca e non si incrociano altri veicoli	V	F
	2) È consentito in città in caso di nebbia fitta	V	F
	3) È consentito nelle gallerie urbane a senso unico	V	F
218 	7) Il segnale n. 218:		
	1) Indica un attraversamento pedonale non regolato da semaforo	V	F
	2) Presegnala un viale pedonale	V	F
	3) Impone di usare i segnali acustici per avvertire i pedoni	V	F
699 	8) Il simbolo rappresentato nella figura n. 699:		
	1) È posto sulla spia di tergicristallo in funzione	V	F
	2) Contraddistingue l'interruttore di comando del tergilunotto posteriore	V	F
	3) Individua il dispositivo di comando del lavacristallo	V	F
	9) È possibile costringere un malato a salire sull'ambulanza per trasportarlo in ospedale?		
	1) No, ma si può fare opera di convinzione	V	F
	2) Sì, se versa in imminente pericolo di vita	V	F
	3) Sì, se trattasi di malato infettivo e contagioso	V	F
	10) In quale dei seguenti casi possiamo cambiare canale radio?		
	1) In caso di elevato traffico radio	V	F
	2) Nel caso in cui non si riesca a comunicare sul solito canale radio	V	F
	3) Nel caso in cui ci venga comunicato dalla Sede	V	F

Per ciascuna risposta **V** se ritenuta vera **F** se ritenuta falsa

7 	1) Il segnale n. 7:		
	1) Presegnala una doppia curva, la prima a sinistra	V	F
	2) Presegnala una confluenza a sinistra	V	F
	3) Può essere integrato con pannello recante l'indicazione di una lunghezza tra due frecce	V	F
	2) Il sistema frenante antibloccaggio ruote (ABS):		
	1) Valuta le differenze di velocità di rotazione delle ruote in frenata	V	F
	2) È un olio speciale per l'impianto frenante dell'autoveicolo	V	F
	3) Impedisce il bloccaggio delle ruote in fase di frenatura	V	F
56 	3) Il segnale n. 56:		
	1) Consente ad un' autovettura di sorpassare un autocarro	V	F
	2) Consente ad un autocarro di sorpassare un motociclo	V	F
	3) Si trova solo sulle strade extraurbane principali	V	F
	4) Influisce sulla distanza di sicurezza:		
	1) Il numero di corsie della strada	V	F
	2) La concentrazione del conducente	V	F
	3) La velocità a cui si viaggia	V	F
614 	5) Nell'incrocio rappresentato nella figura n. 614:		
	1) Il veicolo T passa prima del veicolo R	V	F
	2) Il veicolo T passa per ultimo	V	F
	3) I veicoli transitano nel seguente ordine: R, T, A	V	F
	6) Occorre eseguire con frequenza sull'impianto di illuminazione:		
	1) Il controllo e la pulizia dei trasparenti di vetro e di plastica dei gruppi ottici	V	F
	2) La verifica del sistema di accensione	V	F
	3) Il controllo della colorazione dei trasparenti di vetro e plastica dei gruppi ottici	V	F
236 	7) Il segnale di figura n. 236:		
	1) Indica che una pista ciclabile attraversa la carreggiata	V	F
	2) Indica l'inizio di una pista ciclabile	V	F
	3) È posto in corrispondenza di un attraversamento ciclabile	V	F
709 	8) Il simbolo rappresentato nella figura n. 709:		
	1) Indica il comando del dispositivo di sbrinamento del lunotto posteriore	V	F
	2) Contrassegna il comando del dispositivo di sbrinamento del parabrezza	V	F
	3) Contrassegna il dispositivo antiappannante del lunotto posteriore	V	F
	9) Il paziente in imminente pericolo di vita rifiuta il trasporto:		
	1) Avvisiamo immediatamente i Vigili del Fuoco	V	F
	2) Avvisiamo immediatamente la Centrale Operativa	V	F
	3) Lo lasciamo dov'è e rientriamo in sede	V	F
	10) Si può entrare in un senso vietato con i dispositivi d'allarme inseriti?		
	1) No, mai	V	F
	2) Sì, solo se la strada è libera e visibile fino al primo incrocio	V	F
	3) Sì, in ogni caso, per guadagnare tempo	V	F



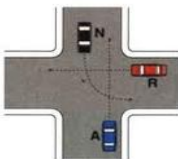


Per ciascuna risposta **V** se ritenuta vera **F** se ritenuta falsa

8 	1) In presenza del segnale n. 8:		
	1) È necessario moderare la velocità per potersi fermare se le barriere sono chiuse	V	F
	2) È possibile transitare tra una barra e l'altra se le semi barriere sono chiuse	V	F
	3) È consentito sostare	V	F
	2) I pneumatici con lesioni sui fianchi che interessano le tele:		
	1) Possono essere usati a bassa velocità	V	F
	2) Debbono essere subito ricostruiti e ricoperti	V	F
	3) Si devono sostituire	V	F
82 	3) Il segnale n. 82:		
	1) Indica la fine del divieto di sorpasso precedentemente imposto	V	F
	2) Indica la fine del divieto tra le sole autovetture	V	F
	3) Non consente il sorpasso se deve essere superata la striscia continua	V	F
	4) Lo spazio minimo totale di arresto di un veicolo:		
	1) Dipende dalle condizioni della pavimentazione stradale	V	F
	2) Non dipende dallo stato dei pneumatici	V	F
	3) Non dipende dalla spinta sul pedale del freno quando le ruote sono bloccate	V	F
615 	5) Secondo le norme di precedenza nell'incrocio in figura n. 615:		
	1) Il veicolo R passa per primo	V	F
	2) Il veicolo A può passare per primo	V	F
	3) Il veicolo C deve passare per ultimo	V	F
	6) Le luci di sosta (o stazionamento):		
	1) Non sono obbligatorie	V	F
	2) Possono sostituire le luci di posizione in ogni caso di sosta	V	F
	3) Sono da utilizzare solo nei centri abitati durante la sosta	V	F
219 	7) Il segnale n. 219:		
	1) Presegnala parchi giochi per bambini	V	F
	2) Posto sul bordo del marciapiede indica la fermata di uno scuolabus	V	F
	3) Presegnala un attraversamento pedonale	V	F
708 	8) Il simbolo rappresentato nella figura n. 708:		
	1) Individua il comando del dispositivo di sbrinamento del lunotto posteriore	V	F
	2) Contrassegna il comando del dispositivo di sbrinamento del parabrezza	V	F
	3) Contrassegna il comando del dispositivo antiappannante del lunotto posteriore	V	F
	9) Dove devono essere portati i feriti di un incidente stradale?		
	1) All'ospedale più vicino	V	F
	2) All'ospedale richiesto dall'interessato	V	F
	3) All'ospedale indicato dalla Centrale Operativa	V	F
	10) Se un'ambulanza in urgenza ed un'automobile che procedono in senso opposto hanno difficoltà ad incrociarsi, chi ha l'obbligo di rallentare e all'occorrenza fermarsi?		
	1) Entrambi i conducenti	V	F
	2) Solo il conducente dell'ambulanza	V	F
	3) Solo il conducente dell'autovettura	V	F



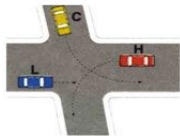

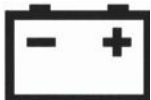
Per ciascuna risposta **V** se ritenuta vera **F** se ritenuta falsa

9 	1) Il segnale n. 9:		
	1) Presegnala un attraversamento ferroviario a livello non munito di barriere	V	F
	2) È posto a 150 metri dai binari con relativo pannello distanziometrico	V	F
	3) Segnala un incrocio con linea tranviaria	V	F
	2) La squilibratura dei freni può dipendere da:		
	1) Pistoncino bloccato nel cilindretto	V	F
	2) Eccessivo gioco della frizione	V	F
	3) Bolle d'aria nell'impianto idraulico di frenatura	V	F
60 	3) Il segnale n. 60:		
	1) Consente ad un autocarro di massa complessiva pari a 3,5 t di sorpassare un autoarticolato	V	F
	2) Consente ad un autobus di 18 t di sorpassare un autotreno	V	F
	3) Consente alle autovetture di sorpassare gli autocarri sulla corsia di destra	V	F
	4) Influisce sulla distanza di sicurezza:		
	1) La dimensione del veicolo	V	F
	2) L'entità del carico del veicolo	V	F
	3) La prontezza di riflessi del conducente	V	F
616 	5) Nell'incrocio rappresentato in figura n. 616:		
	1) I veicoli transitano nel seguente ordine: S, B, T	V	F
	2) Il veicolo B deve dare la precedenza al veicolo T	V	F
	3) Il veicolo B transita per primo	V	F
	6) In caso di avverse condizioni del tempo, prima di partire bisogna:		
	1) Pulire bene il parabrezza ed i vetri che permettono la visibilità del conducente	V	F
	2) Aumentare la pressione dei pneumatici delle ruote motrici	V	F
	3) Cambiare l'olio dei freni	V	F
220 	7) Il segnale n. 220:		
	1) Localizza un dispositivo di chiamata stradale di soccorso	V	F
	2) Invita ad evitare rumori in prossimità di un centro di soccorso medico	V	F
	3) Indica l'assoluto divieto di sosta	V	F
702 	8) Il simbolo rappresentato nella figura 702:		
	1) Obbliga ad effettuare segnalazioni acustiche	V	F
	2) È posto sulla spia di clacson inefficiente	V	F
	3) Indica il comando del dispositivo di segnalazione acustica	V	F
	9) A quale velocità si deve viaggiare trasportando un politraumatizzato grave?		
	1) Al massimo della velocità consentita dal veicolo	V	F
	2) A non più di 40 Km/h	V	F
	3) Come consente la strada ed il barelliere suggerisce	V	F
	10) Quali dispositivi di allarme si devono azionare per il trasporto di un ustionato grave?		
	1) Sirena e luci di posizione	V	F
	2) Sirena, lampeggiatori e fari anabbaglianti	V	F
	3) Nessun dispositivo supplementare di allarme	V	F



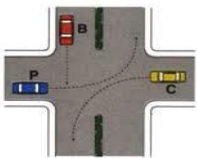


Per ciascuna risposta **V** se ritenuta vera **F** se ritenuta falsa

10 	1) Il segnale n. 10, CROCE DI S. ANDREA:		
	1) Presegnala una sede ferroviaria con più binari	V	F
	2) Presegnala un quadrivio	V	F
	3) Indica che la sede ferroviaria ha un solo binario	V	F
	2) Il fenomeno dell'acquaplaning:		
	1) Si verifica più facilmente a velocità ridotta	V	F
	2) Fa sollevare le ruote dal terreno bagnato	V	F
	3) Fa scivolare le ruote sullo strato di acqua compressa	V	F
83 	3) Il segnale n. 83:		
	1) Consente ad un autotreno di massa pari a 44 t di sorpassare un' autovettura	V	F
	2) Indica la fine del divieto di sorpasso per tutti gli autocarri	V	F
	3) Vieta il transito degli autotreni, autosnodati, autoarticolati	V	F
	4) Per arrestare il veicolo nello spazio minimo il conducente deve:		
	1) Curare la manutenzione dei pneumatici	V	F
	2) Evitare di caricare il veicolo oltre il limite di peso consentito	V	F
	3) Abbassare prima il pedale della frizione e poi quello del freno	V	F
617 	5) Nell'incrocio rappresentato in figura n. 617, il conducente del veicolo N:		
	1) Attraversa per primo	V	F
	2) Conclude per ultimo l'attraversamento dell'incrocio	V	F
	3) Deve dare la precedenza al veicolo R	V	F
	6) L'uso degli indicatori di direzione:		
	1) È necessario per almeno 500 metri dopo aver effettuato il sorpasso	V	F
	2) È necessario per impegnare la corsia di sorpasso	V	F
	3) È necessario in occasione di ogni cambio di corsia	V	F
224 	7) Il segnale n. 224:		
	1) È posto all'inizio di una strada senza uscita per i veicoli	V	F
	2) Consente il transito delle autovetture	V	F
	3) È un segnale di divieto	V	F
703 	8) Il simbolo rappresentato nella figura n. 703:		
	1) Contraddistingue una spia luminosa di riserva carburante	V	F
	2) Indica che la benzina sta per finire se la spia è accesa	V	F
	3) Indica il bocchettone di caricamento del carburante	V	F
	9) È consigliabile:		
	1) Provvedere ad accendere i fari anabbaglianti in caso di soccorso urgente	V	F
	2) In urgenza, usare il clacson insieme con il dispositivo supplementare di allarme (sirena)	V	F
	3) In urgenza usare il dispositivo di accensione simultanea degli indicatori di direzione	V	F
	10) In quale dei seguenti casi la velocità deve essere particolarmente moderata?		
	1) Nelle forti salite	V	F
	2) Nei tratti di strada a visuale non libera	V	F
	3) Nelle strade a senso unico di circolazione	V	F

Per ciascuna risposta **V** se ritenuta vera **F** se ritenuta falsa

11 	1) Il segnale n. 11, DOPPIA CROCE DI S. ANDREA:		
	1) Impone di fermarsi alla striscia di arresto se è in arrivo il treno	V	F
	2) È posto nelle vicinanze di un passaggio a livello senza barriere	V	F
	3) È posto a 150 metri dal passaggio a livello	V	F
	2) Sui pneumatici occorre verificare frequentemente:		
	1) Il loro peso	V	F
	2) La composizione della loro mescola	V	F
	3) La larghezza del battistrada	V	F
58 	3) Il segnale n. 58:		
	1) È un segnale di prescrizione	V	F
	2) Vieta ai veicoli di superare la velocità indicata	V	F
	3) Obbliga a rispettare un limite massimo di velocità	V	F
	4) La distanza di sicurezza dipende:		
	1) Dalla potenza del veicolo	V	F
	2) Dall'efficienza dei freni	V	F
	3) Dall'efficienza del freno di stazionamento	V	F
618 	5) È consentito attraversare l'incrocio in figura n. 618 secondo l'ordine:		
	1) Il veicolo L per primo	V	F
	2) Il veicolo L contemporaneamente al veicolo C, poi il veicolo H	V	F
	3) Il veicolo H per ultimo	V	F
	6) I dispositivi di segnalazione acustica:		
	1) Non si possono usare di notte	V	F
	2) Debbono essere usati nei centri abitati, in prossimità degli attraversamenti pedonali	V	F
	3) Si debbono usare in ogni evenienza fuori dai centri abitati	V	F
225 	7) Il segnale n. 225:		
	1) Vieta la manovra di inversione di marcia sulla strada laterale	V	F
	2) Segnala l'intersezione di una strada con un'altra senza uscita	V	F
	3) Consente la svolta a destra	V	F
705 	8) Il simbolo rappresentato nella figura n. 705:		
	1) Con spia accesa, indica che il generatore non carica la batteria	V	F
	2) Se la spia è accesa indica che la batteria è scarica	V	F
	3) Se la spia rimane accesa durante la marcia indica di sostituire subito la batteria	V	F
	9) Che tipo di strada, potendo scegliere, è opportuno percorrere nel trasportare un malato con sospetta frattura di femore?		
	1) La più breve	V	F
	2) Non necessariamente la più breve, ma quella con il fondo stradale in migliori condizioni	V	F
	3) La più panoramica	V	F
	10) Andando sul luogo di una catastrofe, mi viene comunicato via radio di rientrare. Come mi comporto?		
	1) Mi metto a discutere sull'opportunità di obbedire all'ordine	V	F
	2) Obbedisco prontamente	V	F
	3) Continuo la marcia per andare a vedere cos'è successo	V	F

Per ciascuna risposta **V** se ritenuta vera **F** se ritenuta falsa

13 	1) I pannelli di figura n. 13:		
	1) Si possono trovare solo se il passaggio a livello è custodito	V	F
	2) Sono posti prima di qualsiasi tipo di passaggio a livello	V	F
	3) Sono segnali di indicazione	V	F
	2) Il sistema frenante antibloccaggio ruote (ABS):		
	1) Non è applicabile alle piccole autovetture	V	F
	2) Rende meno pericolosa la frenata in curva	V	F
	3) Funziona soltanto con pneumatici nuovi	V	F
81 	3) Il segnale n. 81:		
	1) Indica il limite di velocità per tutti i veicoli	V	F
	2) Indica la fine di una prescrizione	V	F
	3) Vieta il transito ai veicoli che superano la velocità di 50 Km/h	V	F
	4) Il limite massimo di velocità su strade extraurbane secondarie è di:		
	1) 90 Km/h per i motocicli	V	F
	2) 70 Km/h per i ciclomotori	V	F
	3) 90 Km/h per i quadricicli a motore	V	F
620 	5) Secondo le norme di precedenza nell'incrocio in figura n. 620:		
	1) Il veicolo B deve attendere il transito del veicolo P	V	F
	2) Il veicolo B transita per ultimo	V	F
	3) I veicoli transitano nell'ordine: P, C, B	V	F
	6) I catadiottri hanno la funzione di:		
	1) Agevolare la visibilità notturna di rimorchi isolati, parcheggiati in strada	V	F
	2) Segnalare la svolta di un veicolo	V	F
	3) Segnalare la presenza di un veicolo, diventando luminosi se illuminati dai fari	V	F
226 	7) Il segnale n. 226:		
	1) Indica la velocità che si consiglia di non superare in condizioni ottimali di traffico	V	F
	2) È a fondo verde se installato in autostrada	V	F
	3) Su strade extraurbane può essere installato in corrispondenza di curve pericolose	V	F
706 	8) Il simbolo rappresentato nella figura 706:		
	1) Può contraddistinguere una spia luminosa di colore giallo ambra	V	F
	2) Posto su una spia accesa, indica l'eccessiva temperatura dell'olio motore	V	F
	3) Con spia spenta e a motore acceso, indica che la pressione dell'olio è regolare	V	F
	9) In quale dei seguenti casi è scorretto l'uso della radio di bordo dell'ambulanza?		
	1) Per comunicazioni di servizio	V	F
	2) Per chiedere delucidazioni sul luogo di un incidente	V	F
	3) Per comunicazioni personali con altri colleghi	V	F
	10) È corretto tenere normalmente il volante per le razze?		
	1) Sì, ma solo se la presa è sicura	V	F
	2) No	V	F
	3) Sì, ma solo nei rettilinei	V	F

Per ciascuna risposta **V** se ritenuta vera **F** se ritenuta falsa

14 	1) In presenza del segnale n. 14:		
	1) Si ha l'obbligo di dare precedenza ai filobus	V	F
	2) È sempre vietato il sorpasso dei tram	V	F
	3) Si può sorpassare a destra il tram in marcia se vi è lo spazio necessario	V	F
	2) Sulla stabilità del veicolo in marcia, influisce positivamente:		
	1) Il tipo di motore	V	F
	2) Il corretto valore della convergenza delle ruote anteriori	V	F
	3) L'uso del carburante con adeguato numero di ottani	V	F
62 	3) Il segnale n. 62:		
	1) Vieta il transito ai ciclomotori	V	F
	2) Vighe dalle ore 8 alle ore 20	V	F
	3) Non consente ai pedoni di percorrere quella strada	V	F
	4) Sulle autostrade il limite massimo di velocità è di:		
	1) 120 Km/h per autocaravan di massa complessiva fino a 3,5 t	V	F
	2) 80 Km/h per autovettura che traina un caravan	V	F
	3) 120 Km/h per autocarri con massa complessiva fino a 3,5 t	V	F
632 	5) Secondo le norme di precedenza nell'incrocio in figura n. 632:		
	1) Il veicolo N deve passare per ultimo	V	F
	2) Il veicolo B deve passare dopo il veicolo P	V	F
	3) Il veicolo D può passare prima degli altri veicoli	V	F
	6) È vietato l'uso dei dispositivi di segnalazione acustica:		
	1) Nei centri abitati se non c'è pericolo immediato	V	F
	2) Di norma nei centri abitati	V	F
	3) Fuori dai centri abitati, per segnalare l'approssimarsi del veicolo	V	F
230 	7) Il segnale di figura n. 230:		
	1) Indica l'inizio di una galleria	V	F
	2) Ricorda che non è consentita la sosta, ma solo la fermata	V	F
	3) Indica una galleria con lavori in corso	V	F
721 	8) Il simbolo rappresentato nella figura n. 721:		
	1) È un segnalatore generico di pericolo	V	F
	2) Contrassegna la spia di funzionamento difettoso del sistema di frenatura	V	F
	3) Segnala un posto di chiamata telefonico per soccorso stradale	V	F
	9) Che cosa bisogna fare al termine di ogni chiamata radio?		
	1) Dare conferma di aver ricevuto	V	F
	2) Salutare educatamente il collega	V	F
	3) Accertarsi di aver spento la radio	V	F
	10) L'elisoccorso ha confermato il suo intervento:		
	1) Si portano i primi soccorsi e in ogni modo si attende l'arrivo dell'elicottero	V	F
	2) Assieme al barelliere si valuta la situazione e si accompagna il ferito a casa	V	F
	3) Si portano i primi soccorsi, si carica il ferito sull'ambulanza e si trasporta velocemente	V	F





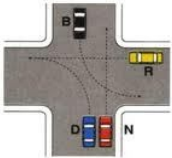
Per ciascuna risposta **V** se ritenuta vera **F** se ritenuta falsa

15 	1) Il segnale n. 15:		
	1) Presegnala un luogo frequentato da bambini	V	F
	2) Presegnala un viale pedonale	V	F
	3) Presegnala un attraversamento pedonale	V	F
	2) L'insufficiente tenuta di strada del veicolo può dipendere:		
	1) Dal montaggio di cerchi in lega anche se previsti dalla casa costruttrice	V	F
	2) Dalla pendenza della strada percorsa	V	F
	3) Dagli ammortizzatori scarichi	V	F
65 	3) Il segnale n. 65:		
	1) Vieta il transito ai veicoli a braccia	V	F
	2) Impone il divieto di transito ai conducenti di veicoli a braccia	V	F
	3) Indica una via riservata ai venditori ambulanti	V	F
	4) La distanza di sicurezza dipende:		
	1) Dalle condizioni dei pneumatici	V	F
	2) Dalle condizioni fisiche del guidatore	V	F
	3) Dalla presenza di veicoli che ci seguono	V	F
634 	5) Giungendo all'incrocio rappresentato in figura n. 634:		
	1) Il veicolo A può passare per primo	V	F
	2) Il veicolo A deve attendere che siano transitati i veicoli L e C	V	F
	3) Il veicolo C deve dare la precedenza al veicolo A	V	F
693 	6) Il proiettore acceso così come lo si vede nella figura n. 693:		
	1) È a luce anabbagliante, con la lampada montata correttamente	V	F
	2) Emette un fascio di luce irregolare perché rivolto verso l'alto	V	F
	3) Ha un fascio luminoso di profondità per illuminare una strada a grande distanza	V	F
238 	7) Il segnale di figura n. 238:		
	1) Obbliga a svoltare a sinistra al prossimo incrocio	V	F
	2) Indica l'itinerario possibile per svoltare a sinistra	V	F
	3) Si applica solo agli autoveicoli	V	F
	8) È di colore rosso la spia:		
	1) Di accensione del segnale di emergenza	V	F
	2) Di inserimento del dispositivo di avviamento a freddo	V	F
	3) Della temperatura del liquido di raffreddamento del motore	V	F
	9) Dall'osservanza di quali prescrizioni, sono esentati i conducenti di veicoli che trasportano feriti o malati gravi?		
	1) Di quelle relative all'uso di segnalazioni acustiche	V	F
	2) Di quelle relative all'uso dei dispositivi di illuminazione	V	F
	3) Di quelle relative alle comuni regole di prudenza	V	F
	10) L'accensione della radio ed il suo utilizzo:		
	1) È limitata agli interventi urgenti	V	F
	2) Deve essere sempre accesa ogni qualvolta si sale sul mezzo	V	F
	3) È previsto solo per i servizi di trasporto infermi	V	F

Per ciascuna risposta **V** se ritenuta vera **F** se ritenuta falsa

16 	1) Il segnale n. 16:		
	1) Presegnala un attraversamento ciclabile	V	F
	2) È un segnale di pericolo	V	F
	3) È posto dopo ogni attraversamento ciclabile	V	F
	2) Se lo sterzo vibra fortemente:		
	1) Può dipendere dalla trazione posteriore	V	F
	2) Può dipendere dalla eccessiva pressione dei pneumatici	V	F
	3) Può dipendere dalle ruote direttrici non equilibrate	V	F
61 	3) Il segnale n. 61:		
	1) Vieta il transito ai veicoli a trazione animale	V	F
	2) Vieta il transito ai veicoli a motore	V	F
	3) Vieta il transito ai veicoli trainati da cavalli	V	F
	4) Il limite massimo di velocità consentito, è di:		
	1) 90 Km/h sulle strade extraurbane secondarie	V	F
	2) 40 Km/h per i ciclomotori	V	F
	3) 100 Km/h sulle strade extraurbane secondarie	V	F
637 	5) Nell'attraversare l'incrocio in figura n. 637:		
	1) Il veicolo L può passare per primo	V	F
	2) Il veicolo D è l'ultimo a poter passare	V	F
	3) Passa per primo il veicolo più veloce	V	F
	6) La targa posteriore deve essere illuminata:		
	1) Con luce bianca	V	F
	2) Quando il veicolo sosta fuori della carreggiata di una strada non illuminata	V	F
	3) Quando sul cruscotto è accesa la spia verde delle luci	V	F
239 	7) Il segnale n. 239:		
	1) Indica la presenza di un cavalcavia per l'inversione di marcia	V	F
	2) È un segnale autostradale	V	F
	3) Indica un sottopassaggio che consente di invertire il senso di marcia	V	F
695 	8) Il simbolo rappresentato nella figura n. 695:		
	1) Individua il comando dei fendinebbia posteriori	V	F
	2) È posto sulla spia di accensione dei proiettori abbaglianti	V	F
	3) È riprodotto sulla spia di accensione dei proiettori anabbaglianti	V	F
	9) Quando si deve raccogliere un politraumatizzato giacente sulla carreggiata, quale dei seguenti comportamenti è corretto?		
	1) Caricare il malato ed in seguito invertire il senso di marcia	V	F
	2) Invertire la direzione di marcia ed in seguito caricare il malato	V	F
	3) Non invertire il senso di marcia, a costo di trasportare il malato in un altro ospedale	V	F
	10) Ritornando in sede a servizio effettuato, quali dispositivi di allarme si usano?		
	1) Solo lampeggiatori	V	F
	2) Non si usa alcun dispositivo di allarme	V	F
	3) Lampeggiatori e sirena, se c'è traffico	V	F

Per ciascuna risposta **V** se ritenuta vera **F** se ritenuta falsa

17 	1) Il segnale n. 17:		
	1) È posto prima di una discesa pericolosa	V	F
	2) Richiede di tenere una maggiore distanza di sicurezza dal veicolo che precede	V	F
	3) Presegnala una discesa particolarmente pericolosa	V	F
	2) Se lo sterzo si presenta più duro del normale, può dipendere:		
	1) Da insufficienza del servosterzo	V	F
	2) Da cattiva registrazione dei freni	V	F
	3) Dalla scatola dello sterzo difettosa o deteriorata	V	F
63 	3) Il segnale n. 63:		
	1) Vige dalle ore 8 alle ore 20	V	F
	2) Consente il traffico delle biciclette nelle ore notturne	V	F
	3) Vieta il transito ai velocipedi	V	F
	4) È ammessa la marcia su file parallele:		
	1) Lungo il tronco stradale che conduce ad un incrocio non regolato	V	F
	2) Su strada a doppio senso con due corsie complessivamente	V	F
	3) Quando gli agenti del traffico la autorizzano	V	F
	5) I catadiottri:		
	1) Si accendono sempre insieme con le luci di posizione	V	F
	2) Possono sostituire le luci di ingombro	V	F
	3) Rossi sono prescritti nella parte posteriore di tutti gli autoveicoli, motoveicoli e rimorchi	V	F
153 	6) Il segnale n. 153 indica:		
	1) Un senso unico frontale	V	F
	2) Che dal senso opposto è vietato l'accesso	V	F
	3) Che si ha la precedenza rispetto a chi viene in senso contrario	V	F
699 	7) Il simbolo rappresentato in figura n. 699:		
	1) È collocato su una spia di colore giallo ambra	V	F
	2) Identifica il comando per azionare il tergicristallo	V	F
	3) Indica l'interruttore del dispositivo per pulire il parabrezza	V	F
638 	8) Nell'incrocio rappresentato nella figura n. 638, il veicolo B:		
	1) Deve dare la precedenza al veicolo N	V	F
	2) Ha la destra libera in relazione alla sua destinazione	V	F
	3) Ha la precedenza rispetto al veicolo R	V	F
	9) In emergenza nelle ore notturne, quali dispositivi supplementari di allarme si devono azionare?		
	1) Lampeggiatori in modo continuo e sirena dove può essere necessario	V	F
	2) Lampeggiatori e clacson	V	F
	3) Nessuno	V	F
	10) Se giungendo sul luogo di un incidente vengo trattato scortesemente e deriso dai presenti, come devo comportarmi?		
	1) Rispondo alle provocazioni insultando a mia volta	V	F
	2) Minaccio di denunciarli e li insulto	V	F
	3) Mantengo la calma provvedendo ad espletare il servizio	V	F



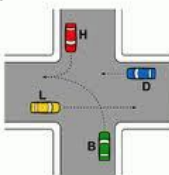



Per ciascuna risposta **V** se ritenuta vera **F** se ritenuta falsa

19 	1) Il segnale n. 19:		
	1) Presegnala un restringimento della carreggiata	V	F
	2) Presegnala una strettoia su entrambi i lati della strada	V	F
	3) Presegnala sempre un senso unico alternato	V	F
	2) La squilibratura dei freni può dipendere da:		
	1) Ferodo consumato eccessivamente	V	F
	2) Eccessiva velocità	V	F
	3) Tamburo ovalizzato	V	F
64 	3) Il segnale n. 64:		
	1) Vieta il transito a tutti i motoveicoli	V	F
	2) Vieta il transito ai motocicli	V	F
	3) Vieta il transito a tutti i veicoli a due ruote	V	F
	4) Lo spazio minimo totale di arresto di un veicolo:		
	1) Diminuisce se il battistrada dei pneumatici è usurato	V	F
	2) Diminuisce se si aziona il freno di stazionamento	V	F
	3) Diminuisce se si frena sterzando	V	F
639 	5) Nell'incrocio rappresentato nella figura n. 639:		
	1) I veicoli T e C transitano contemporaneamente	V	F
	2) Il veicolo A deve dare la precedenza al Tram e al veicolo B	V	F
	3) I veicoli transitano nell'ordine: T, B, C, A	V	F
670 	6) I segnali gialli e neri rappresentati in figura n. 670:		
	1) Indicano il divieto di fermata	V	F
	2) Indicano il divieto di sosta	V	F
	3) Sono posti lungo il ciglio verticale del marciapiede	V	F
250 	7) Il segnale n. 250:		
	1) Obbliga tutti gli autocarri a svoltare seguendo la direzione della freccia	V	F
	2) Invita solo gli autoarticolati a seguire la direzione della freccia	V	F
	3) Indica la vicinanza di un'area di rifornimento e sosta per veicoli pesanti	V	F
702 	8) Il simbolo rappresentato in figura n. 702:		
	1) Può contraddistinguere il comando del clacson	V	F
	2) È collocato sul comando dell'avvisatore acustico	V	F
	3) Avverte di un guasto nel dispositivo di segnalazione acustica	V	F
	9) Durante un servizio urgente, se non mi viene data la precedenza, come devo comportarmi?		
	1) Mantengo la calma e attendo le condizioni favorevoli per proseguire	V	F
	2) Suono il clacson con insistenza e lampeggio con gli abbaglianti	V	F
	3) Invito con gestacci e urla a darmi la precedenza	V	F
	10) Alla guida di un ambulanza, non in servizio di emergenza, a quale velocità si attraversa un centro abitato?		
	1) A circa 60 Km/h	V	F
	2) A non più di 30 Km/h	V	F
	3) A non più di 50 Km/h, salvo diversa segnalazione	V	F

Per ciascuna risposta **V** se ritenuta vera **F** se ritenuta falsa

23 	1) Il segnale n. 23:		
	1) Può segnalare un tratto di strada con banchina cedevole	V	F
	2) Deve essere integrato con il segnale di limite di velocità	V	F
	3) È un segnale di indicazione	V	F
	2) Per limitare i consumi di carburante:		
	1) Conviene ridurre i carichi superflui	V	F
	2) Occorre ridurre ragionevolmente la velocità di marcia	V	F
	3) È opportuno tenere i finestrini chiusi	V	F
66 	3) Il segnale n. 66:		
	1) Vieta il transito a tutti gli autoveicoli	V	F
	2) Permette il transito ai motocarri	V	F
	3) Vieta il transito delle motocarrozette	V	F
	4) Si è tenuti a regolare la velocità in funzione:		
	1) Dello stato del veicolo	V	F
	2) Della velocità dei veicoli che ci seguono	V	F
	3) Della portata del veicolo, indicata nella carta di circolazione	V	F
642 	5) Nella situazione di figura n. 642:		
	1) Il veicolo M attraversa l'incrocio insieme al Tram	V	F
	2) Il veicolo A nello svoltare a sinistra ha la destra libera	V	F
	3) Ogni veicolo ha la destra occupata, in relazione alle propria destinazione	V	F
520 	6) La segnaletica di figura n. 520:		
	1) Può essere integrata con segnaletica verticale	V	F
	2) Si trova solo sulle strade urbane	V	F
	3) Obbliga i conducenti a dare precedenza ai ciclisti che hanno iniziato l'attraversamento	V	F
245 	7) Il segnale di figura n. 245:		
	1) Indica come devono essere utilizzate le corsie	V	F
	2) Consente ai taxi di percorrere la corsia di destra	V	F
	3) Riserva la corsia di destra agli autobus dei servizi pubblici urbani	V	F
703 	8) Il simbolo rappresentato in figura n. 703:		
	1) È collocato su una spia luminosa	V	F
	2) Con spia accesa, indica che il veicolo sta utilizzando la riserva di carburante	V	F
	3) Integra l'indicatore livello del carburante	V	F
	9) Come deve essere trasportato un sospetto fratturato di colonna vertebrale?		
	1) Con urgenza	V	F
	2) Con precauzione, ma velocemente	V	F
	3) Usando ogni cautela, evitando sobbalzi e brusche frenate	V	F
	10) In un servizio urgente d'istituto, durante le ore diurne, quali dispositivi di allarme si devono azionare?		
	1) Fari abbaglianti, lampeggiatori e sirena	V	F
	2) Luci di posizione, sirena e clacson	V	F
	3) Lampeggiatori, sirena e fari anabbaglianti	V	F



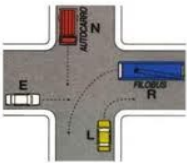


Per ciascuna risposta **V** se ritenuta vera **F** se ritenuta falsa

24 	1) Il segnale n. 24, con gli opportuni pannelli integrativi:		
	1) Presegnala un tratto di strada che può diventare pericolosa in particolari condizioni	V	F
	2) Presegnala una strada che può avere una superficie particolarmente sdruciolevole	V	F
	3) Presegnala una strettoia	V	F
	2) Il sistema frenante antibloccaggio ruote (ABS):		
	1) In curva non funziona	V	F
	2) Rende meno pericolosa la frenata in curva	V	F
	3) Migliora la stabilità direzionale su fondo stradale con diversa aderenza	V	F
67 	3) Il segnale n. 67:		
	1) Consente il transito agli autobus turistici	V	F
	2) Segnala una corsia riservata agli autobus	V	F
	3) Indica il divieto di transito agli autobus	V	F
	4) Si deve tenere una velocità adeguata:		
	1) Adeguata alle proprie condizioni fisiche	V	F
	2) Non superiore a quella massima indicata dal tachimetro	V	F
	3) Adeguata alle condizioni della strada	V	F
643 	5) Giungendo all'incrocio rappresentato in figura n. 643:		
	1) Il veicolo H può passare per primo	V	F
	2) Il veicolo B deve attendere il transito degli altri tre veicoli	V	F
	3) Il veicolo B può passare prima del veicolo L	V	F
305 	6) I pannelli gialli con bordi rossi rappresentati in figura n. 305:		
	1) Servono a far distinguere i rimorchi dai semirimorchi, da parte dei conducenti che seguono	V	F
	2) Sono realizzati con materiali retroflettenti e fluorescenti	V	F
	3) Si debbono applicare a tutti i rimorchi e semirimorchi per trasporto di cose	V	F
265 	7) Il segnale n. 265:		
	1) Si trova solo sulle strade extraurbane	V	F
	2) Indica parcheggi di scambio con linee di autobus	V	F
	3) È posto nelle vicinanze di una rimessa di autobus	V	F
706 	8) Il simbolo rappresentato in figura n. 706:		
	1) Posto su una spia accesa indica insufficiente pressione dell'olio motore	V	F
	2) Se si accende la spia indica che il motore consuma troppo olio	V	F
	3) Con la spia accesa, indica che l'olio del cambio è troppo denso	V	F
	9) Alla guida di un'ambulanza come ci si comporta di fronte ad un pedone che attraversa la strada che stiamo percorrendo?		
	1) Rallentare e all'occorrenza fermarsi	V	F
	2) Suonare il clacson per farlo scostare	V	F
	3) Accelerare per passare prima di lui	V	F
	10) Nelle ore diurne, espletando un servizio non urgente, quali dispositivi acustici si devono usare?		
	1) Luci di posizione e sirena	V	F
	2) Lampeggiatori e sirena	V	F
	3) Solo il clacson, nei casi previsti dal Codice della Strada	V	F

Per ciascuna risposta **V** se ritenuta vera **F** se ritenuta falsa

25 	1) Il segnale n. 25:		
	1) Vieta la manovra di inversione di marcia	V	F
	2) Vieta il transito ai bambini non accompagnati	V	F
	3) Vieta il transito ai pedoni adulti senza bambini	V	F
	2) Viaggiando con pneumatici dello stesso asse gonfiati con pressioni differenti:		
	1) In frenatura il veicolo sbanda maggiormente	V	F
	2) Si compromette la tenuta di strada del veicolo soltanto in curva	V	F
	3) Si compromette la tenuta di strada del veicolo	V	F
68 	3) Il segnale n. 68:		
	1) Vieta il transito ai veicoli merci con massa a pieno carico superiore a 3,5 t	V	F
	2) Consente il transito di autobus di massa complessiva superiore a 3,5 t	V	F
	3) Vieta il transito di un autocarro di massa a pieno carico pari a 3,5 t	V	F
	4) In presenza di cortei:		
	1) Occorre comportarsi come in presenza di colonne di scolari	V	F
	2) Si deve suonare per richiamare l'attenzione e quindi attraversarli con prudenza	V	F
	3) Valgono le stesse norme di comportamento previste per le processioni	V	F
648 	5) Nella situazione rappresentata in figura n. 648:		
	1) Il veicolo T deve attendere il transito del veicolo B	V	F
	2) Il veicolo B deve dare la precedenza a tutti gli altri veicoli	V	F
	3) Il veicolo T passa per primo	V	F
	6) Occorre eseguire con frequenza sull'impianto di illuminazione:		
	1) Il controllo dell'orientamento dei fari	V	F
	2) Il controllo dell'efficienza del climatizzatore	V	F
	3) Il controllo del funzionamento dei dispositivi di illuminazione e segnalazione	V	F
248 	7) Il segnale di figura n. 248:		
	1) Indica il restringimento della carreggiata per lavori in corso	V	F
	2) Preavvisa l'obbligo di svoltare a sinistra	V	F
	3) Presegnala una corsia di accelerazione sulla destra	V	F
704 	8) Il simbolo rappresentato in figura n. 704:		
	1) Individua il bocchettone dell'impianto di raffreddamento	V	F
	2) Segnala il livello dell'acqua del radiatore	V	F
	3) È collocato sulla spia che indica l'eccessiva temperatura dell'acqua di raffreddamento	V	F
	9) Con i dispositivi di allarme azionati, a quale distanza si può seguire un mezzo della Polizia anch'esso in emergenza?		
	1) A distanza ravvicinata, per sfruttare lo spazio creato da questo	V	F
	2) A distanza di sicurezza per evitare un possibile tamponamento	V	F
	3) A circa 200 metri	V	F
	10) Arrivando sul luogo di un incidente i cui feriti sono già stati trasportati, cosa si deve fare?		
	1) Rientrare subito in sede	V	F
	2) Se ritenuto utile, fermarsi lo stretto necessario per prevenire ulteriori incidenti	V	F
	3) Dirigere il traffico fino all'arrivo delle forze dell'ordine	V	F

Per ciascuna risposta **V** se ritenuta vera **F** se ritenuta falsa

30 	1) Il segnale n. 30:		
	1) Può segnalare un ponte interrotto	V	F
	2) Può segnalare lo sbocco su una panchina portuale	V	F
	3) Può segnalare che la strada sbocca su un molo	V	F
	2) Il fenomeno dell'acquaplaning:		
	1) Riduce lo sbandamento del veicolo	V	F
	2) Inizia a velocità più bassa se il pneumatico è molto consumato	V	F
	3) Aumenta nelle carreggiate a forte pendenza laterale	V	F
72 	3) Il segnale n. 72, vieta il transito a:		
	1) Veicoli che trasportano carni macellate	V	F
	2) Autoveicoli con motore a gas (GPL)	V	F
	3) Veicoli furgonati che trasportano merce	V	F
	4) Influisce sulla distanza di sicurezza:		
	1) L'esistenza del servosterzo	V	F
	2) L'aderenza dei pneumatici	V	F
	3) La cilindrata del motore del veicolo	V	F
650 	5) Secondo le norme di precedenza nell'incrocio in figura n. 650:		
	1) Il veicolo R (Filobus) ha la precedenza sugli altri veicoli	V	F
	2) Il veicolo N deve attendere il transito del veicolo E	V	F
	3) Il veicolo E deve attendere il transito del veicolo R	V	F
	6) L'uso degli indicatori di direzione è obbligatorio:		
	1) Ogni qualvolta si deve effettuare una svolta	V	F
	2) Quando ci si arresta per cause di interruzione della circolazione	V	F
	3) Immettendosi nella strada principale, provenendo da una corsia di accelerazione	V	F
199 	7) Il segnale n. 199:		
	1) Riporta il numero della classificazione internazionale della strada	V	F
	2) Indica che mancano 55 Km al confine di stato con l'estero	V	F
	3) È posto su strade di rilevanza internazionale	V	F
720 	8) Il simbolo rappresentato in figura n. 720:		
	1) Contraddistingue il comando del freno di stazionamento	V	F
	2) È riprodotto su una spia di colore rosso	V	F
	3) Contraddistingue i veicoli di coloro che si esercitano alla guida	V	F
	9) Quando si deve soccorrere e caricare un ferito che giace sulla strada, come si deve posizionare l'ambulanza?		
	1) Dopo il ferito	V	F
	2) Prima del ferito, o comunque in modo da proteggerlo	V	F
	3) A fianco del ferito	V	F
	10) Si commette un'infrazione se si guida un veicolo C.R.I. non avendo con sé la patente di guida CROCE ROSSA?		
	1) Sì, ma solo nelle strade urbane	V	F
	2) Sì, sempre	V	F
	3) No, basta avere la patente rilasciata dalla Motorizzazione Civile	V	F

Per ciascuna risposta **V** se ritenuta vera **F** se ritenuta falsa

32		1) Il segnale n. 32:	
	1) Presegnala un tratto di strada con lavori in corso	V	F
	2) Presegnala il pericolo di caduta massi dalla parete rocciosa	V	F
	3) Segnala l'opportunità di suonare con insistenza	V	F
	2) Sui pneumatici occorre verificare frequentemente:		
	1) L'effetto della prova di frenatura a marcia indietro	V	F
	2) Che la loro pressione sia inferiore a quella consigliata	V	F
	3) Il loro aspetto esterno	V	F
75		3) Il segnale n. 75:	
	1) Indica la distanza minima di sicurezza tra due veicoli in transito su quella strada	V	F
	2) Si riferisce ai veicoli anche se sprovvisti di motore	V	F
	3) Può trovarsi prima di una strettoia	V	F
	4) Il limite massimo di velocità sulle autostrade è di:		
	1) 90 Km/h per i quadricicli a motore	V	F
	2) 70 Km/h per gli autotreni	V	F
	3) 130 Km/h per motocicli	V	F
651		5) Nell'incrocio rappresentato nella figura n. 651, il conducente del veicolo D:	
	1) Passa per primo	V	F
	2) Non ha l'obbligo di dare precedenza ad alcuno	V	F
	3) Passa per terzo	V	F
	6) Durante la marcia, l'uso dei proiettori a luce anabbagliante:		
	1) È obbligatorio pure di giorno se si trasportano feriti o ammalati gravi	V	F
	2) Sia nei centri abitati che fuori, è obbligatorio in caso di nebbia fitta	V	F
	3) È sempre consentito in sostituzione dei proiettori di profondità	V	F
200		7) Il segnale n. 200:	
	1) Identifica una strada extraurbana principale	V	F
	2) Indica il numero della prossima uscita autostradale	V	F
	3) Indica la distanza del prossimo casello autostradale	V	F
	8) È di colore rosso la spia:		
	1) Della pressione dell'olio motore	V	F
	2) Della pressione del lubrificante del motore	V	F
	3) Di accensione degli indicatori di direzione	V	F
	9) Come ci si comporta alla guida di un'ambulanza quando un "non vedente" munito di bastone bianco attraversa la strada?		
	1) Si segnala la presenza del veicolo, lampeggiando con i fari	V	F
	2) Si rallenta e si prosegue a velocità moderata	V	F
	3) Ci si ferma	V	F
	10) I dispositivi supplementari di allarme inseriti, danno il diritto di precedenza?		
	1) La chiedono, non esimendosi peraltro dal dovere di attenersi alle comuni regole di prudenza	V	F
	2) Sì, danno precedenza assoluta	V	F
	3) No, rendono solo il veicolo più visibile	V	F

Per ciascuna risposta **V** se ritenuta vera **F** se ritenuta falsa

35 	1) Il segnale n. 35:		
	1) Preavvisa la presenza di un segnale di STOP	V	F
	2) Presegnala la presenza di un ponte mobile	V	F
	3) Segnala l'accesso al pontile d'imbarco di navi traghetto	V	F
	2) Per assicurare stabilità al veicolo in curva, è opportuno:		
	1) Usare pneumatici con adeguato spessore di battistrada	V	F
	2) Usare sempre la quarta marcia	V	F
	3) Evitare di sterzare bruscamente	V	F
77 	3) Il segnale n. 77:		
	1) Vieta il transito a tutti i veicoli di lunghezza complessiva superiore a 10 mt.	V	F
	2) Permette il transito di un autotreno lungo 10 mt.	V	F
	3) Non consente il transito a veicoli di lunghezza superiore a quella indicata	V	F
	4) Percorrendo una carreggiata a senso unico, la svolta a sinistra si effettua:		
	1) Dando in ogni caso la precedenza ai veicoli provenienti da sinistra	V	F
	2) Tenendosi il più vicino possibile al margine sinistro della carreggiata	V	F
	3) Tenendosi il più vicino possibile al margine destro della carreggiata	V	F
652 	5) Secondo le norme di precedenza nell'incrocio in figura n. 652:		
	1) I veicoli devono transitare nell'ordine: A, F, L, H	V	F
	2) Il veicolo F deve attendere il transito del veicolo A	V	F
	3) Il veicolo F può passare per primo	V	F
	6) I catadiottri hanno la funzione di:		
	1) Segnalare, se bianchi, un'autocisterna per il trasporto del carburante	V	F
	2) Segnalare, se rossi e triangolari, la presenza di un motocarro	V	F
	3) Supplire all'eventuale inefficienza delle luci di posizione	V	F
214 	7) Il segnale n. 214:		
	1) Indica la vicinanza di una farmacia	V	F
	2) Indica la direzione per entrare nell'ospedale	V	F
	3) Indica un parcheggio riservato al personale sanitario	V	F
695 	8) Il simbolo rappresentato nella figura n. 695:		
	1) È posto su una spia a luce blu	V	F
	2) Segnala l'accensione dei proiettori fendinebbia	V	F
	3) È applicato sul comando dei proiettori	V	F
	9) Che tipo di strada, avendo la possibilità di scelta, è opportuno percorrere nel trasportare un malato con diagnosi "Edema Polmonare Acuto"?		
	1) Quella con il fondo stradale in condizioni migliori	V	F
	2) La più panoramica	V	F
	3) La più breve	V	F
	10) Giungendo sul luogo di un incidente, qual'è il compito dell'equipaggio?		
	1) L'autista parcheggia il mezzo nel modo più idoneo, ed il barelliere inizia il soccorso	V	F
	2) L'autista provvede a valutare la situazione, mentre il barelliere attende i suoi ordini	V	F
	3) L'autista compila il foglio di viaggio, mentre il barelliere presta i primi soccorsi	V	F

Per ciascuna risposta **V** se ritenuta vera **F** se ritenuta falsa

37 	1) Il segnale n. 37:		
	1) Presegnala un tratto di strada soggetto a forti raffiche di vento laterale	V	F
	2) Presegnala la possibilità di forti raffiche di vento all'uscita di una galleria	V	F
	3) Presegnala la presenza di aereoplani a bassa quota	V	F
	2) Per assicurare stabilità al veicolo in curva, è opportuno:		
	1) Percorrere la curva, se ad ampio raggio, con il motore leggermente in tiro	V	F
	2) Tenere sul tetto solo i bagagli più pesanti	V	F
	3) Procedere a velocità particolarmente moderata nelle curve strette	V	F
78 	3) Il segnale n. 78:		
	1) Vieta il transito ai veicoli aventi una massa effettiva superiore a quella indicata	V	F
	2) Consente il transito ai veicoli il cui asse più caricato, ha massa superiore a quella indicata	V	F
	3) Con pannello, può vietare il transito contemporaneo di più veicoli	V	F
	4) In presenza di cortei:		
	1) Occorre attendere la fine del loro passaggio	V	F
	2) Si deve rallentare e con prudenza farsi strada tra di essi	V	F
	3) Bisogna comportarsi come in presenza di convogli militari	V	F
664 	5) Nell'intersezione di figura n. 664:		
	1) L'ordine di transito dei veicoli è: S, B, D ed L contemporaneamente	V	F
	2) Il veicolo S ha la precedenza e non ha mai l'obbligo di moderare la velocità	V	F
	3) I conducenti di tutti i veicoli hanno l'obbligo di usare la massima prudenza	V	F
690 	6) Il proiettore acceso così come lo si vede nella figura n. 690:		
	1) Ha un fascio luminoso rivolto prevalentemente in profondità	V	F
	2) Assicura l'illuminazione della strada a grande distanza	V	F
	3) È a luce anabbagliante, ma la lampada è rovesciata	V	F
224 	7) Il segnale n. 224:		
	1) Si riferisce anche ai motocicli	V	F
	2) Vieta la manovra di inversione di marcia dopo il segnale	V	F
	3) Non consente il transito ai pedoni	V	F
698 	8) Il simbolo rappresentato nella figura n. 698:		
	1) È posto su una spia luminosa di colore rosso	V	F
	2) È collocato sulla spia, a luce pulsante, di luci di emergenza inserite	V	F
	3) È collocato sulla spia di freno a mano inserito	V	F
	9) Durante l'espletamento di un servizio urgente, con malato a bordo, foriamo un pneumatico lontano dall'ospedale:		
	1) Sostituire il pneumatico, quindi proseguire	V	F
	2) Proseguire portando a termine il servizio	V	F
	3) Prima di ogni altra manovra, chiedere l'intervento dell'unità di soccorso più vicina per trasferire il malato	V	F
	10) Durante l'espletamento di un servizio urgente si incontra un incidente stradale, come ci si comporta?		
	1) Ci si ferma a soccorrere i feriti più gravi	V	F
	2) Si prosegue lasciando, se possibile, un barelliere a prestare soccorso, e chiedendo per radio l'intervento di altre ambulanze	V	F
	3) Si prosegue senza curarsi dell'accaduto	V	F

Per ciascuna risposta **V** se ritenuta vera **F** se ritenuta falsa

37 	1) Il segnale n. 37, in caso di forte vento, comporta:		
	1) Una maggiore tenuta di strada per i veicoli con rimorchio	V	F
	2) Un pericolo maggiore per i veicoli che trainano rimorchi	V	F
	3) Un pericolo maggiore per i veicoli che transitano su viadotti	V	F
	2) I pneumatici con lesioni ai fianchi che interessano le tele:		
	1) Possono aver subito un processo di invecchiamento	V	F
	2) Costituiscono un grave pericolo durante la circolazione	V	F
	3) Possono essere usati, ma con cautela	V	F
80 	3) Il segnale n. 80:		
	1) Indica la fine di un cantiere di lavoro	V	F
	2) Indica la fine delle prescrizioni precedentemente imposte	V	F
	3) Riguarda soltanto i veicoli in servizio pubblico	V	F
	4) Si arreca pericolo o intralcio alla circolazione:		
	1) Se si lasciano aperte le porte del proprio autoveicolo	V	F
	2) Non rispettando la distanza di sicurezza dal veicolo che precede	V	F
	3) Gareggiando in velocità	V	F
665 	5) Nell'incrocio raffigurato in figura n. 665:		
	1) Ciascun veicolo ha la propria destra occupata, in relazione alla sua destinazione	V	F
	2) Il veicolo V ha diritto di precedenza sul veicolo H	V	F
	3) Il veicolo C deve dare la precedenza al veicolo H	V	F
	6) Le frecce direzionali segnate sulla carreggiata:		
	1) Segnalano le direzioni consentite	V	F
	2) Sono di colore giallo alternato con il nero lungo i tratti dove è vietata la sosta	V	F
	3) Sono di colore verde nella segnaletica autostradale	V	F
230 	7) Il segnale di figura n. 230:		
	1) Ricorda di accendere i proiettori	V	F
	2) È di colore blu sulle strade extraurbane	V	F
	3) Ricorda l'obbligo di usare le segnalazioni acustiche	V	F
704 	8) Il simbolo rappresentato nella figura n. 704:		
	1) Indica la temperatura dell'olio motore	V	F
	2) Individua una spia di colore rosso	V	F
	3) Contrassegna l'indicatore della temperatura dell'olio che circola nel motore	V	F
	9) Quante persone si possono trasportare su un'ambulanza?		
	1) Il numero di persone indicate sulla carta di circolazione	V	F
	2) In base al numero di sedili presenti sul mezzo	V	F
	3) Secondo il numero di sedili del mezzo più un bambino	V	F
	10) La sosta del mezzo sulla strada, durante l'espletamento di un servizio urgente d'istituto deve essere?		
	1) Atta a garantire una rapida ripartenza verso l'ospedale	V	F
	2) Nel rispetto della segnaletica presente sul posto	V	F
	3) Congrua da scagionare eventuali rischi dinamici del luogo	V	F

Per ciascuna risposta **V** se ritenuta vera **F** se ritenuta falsa

<small>38</small> 	1) Il segnale n. 38:		
	1) Segnala l'attraversamento di una zona particolarmente esposta al rischio di incendio	V	F
	2) Presegnala la vicinanza di zone ad alto rischio d'incendio	V	F
	3) Presegnala il pericolo di esplosioni	V	F
	2) Con i freni squilibrati, può avvenire in frenata:		
	1) Uno sbandamento trasversale dalla parte della ruota che si blocca per ultima	V	F
	2) Che sia compromessa la stabilità del veicolo	V	F
	3) Lo spostamento del carico all'indietro	V	F
<small>84</small> 	3) Il segnale n. 84:		
	1) Vieta la sosta, ma non la fermata	V	F
	2) Indica le aree dove è proibito lasciare in sosta un veicolo	V	F
	3) Nelle strade extraurbane, consente la sosta dopo le ore venti	V	F
	4) Salvo diversa segnalazione, il limite massimo di velocità consentito è di:		
	1) 90 Km/h sulle strade extraurbane secondarie	V	F
	2) 80 Km/h sulle strade urbane	V	F
	3) 45 Km/h per i ciclomotori	V	F
<small>669</small> 	5) Dovendo attraversare l'incrocio rappresentato in figura n. 669:		
	1) Ogni veicolo ha la propria destra occupata, in relazione alla sua destinazione	V	F
	2) Il veicolo C può transitare per primo	V	F
	3) Il veicolo E deve dare la precedenza al veicolo A	V	F
	6) L'uso degli indicatori di direzione è obbligatorio:		
	1) Per segnalare l'intenzione di effettuare una manovra di sorpasso	V	F
	2) Per segnalare che si vuole effettuare un cambio di corsia	V	F
	3) Quando ci si arresta al semaforo	V	F
<small>238</small> 	7) Il segnale di figura n. 238:		
	1) Indica che al prossimo incrocio non è possibile svoltare a sinistra	V	F
	2) Non si applica ai ciclomotori e motocicli	V	F
	3) Consente di proseguire dritto	V	F
	8) È di colore rosso la spia:		
	1) Di accensione dei proiettori	V	F
	2) Della cintura di sicurezza	V	F
	3) Dei fendinebbia posteriori	V	F
	9) Da chi viene decisa la velocità di un'ambulanza?		
	1) Dall'autista	V	F
	2) Da chi si trova vicino al trasportato	V	F
	3) Dall'autista, seguendo le indicazioni dei barellieri	V	F
	10) È possibile trainare un'ambulanza?		
	1) Sì, sempre	V	F
	2) Sì, quando non ci sono malati a bordo, rispettando le norme del codice	V	F
	3) No, mai	V	F







Per ciascuna risposta **V** se ritenuta vera **F** se ritenuta falsa

39 	1) Il segnale n. 39 può indicare:		
	1) Tratto di strada in cattivo stato o con pavimentazione irregolare	V	F
	2) Che bisogna proseguire diritto	V	F
	3) Salita ripida	V	F
	2) Per limitare i consumi di carburante:		
	1) Conviene utilizzare carburanti più economici	V	F
	2) Si deve marciare ad un elevato numero di giri del motore	V	F
	3) È opportuno eliminare i carichi sul tetto	V	F
85 	3) Il segnale n. 85:		
	1) Vieta la fermata, ma consente la sosta	V	F
	2) Non vale per gli autobus	V	F
	3) Vieta la sosta sia di giorno che di notte, anche nei centri abitati	V	F
	4) Su una strada:		
	1) A quattro carreggiate, quelle centrali sono riservate al sorpasso	V	F
	2) Si può transitare sui binari tranviari a raso senza ostacolare la marcia dei tram	V	F
	3) Extraurbana principale la sosta è ammessa solo su aree a ciò destinate	V	F
638 	5) Secondo le norme di precedenza nell'incrocio in figura n. 638:		
	1) Il veicolo N può passare dopo il veicolo R	V	F
	2) Il veicolo B può passare dopo il veicolo N	V	F
	3) Il veicolo D può passare dopo il veicolo R	V	F
693 	6) Il proiettore acceso così come lo si vede nella figura n. 693:		
	1) È un proiettore asimmetrico	V	F
	2) È un proiettore con la luce abbagliante accesa	V	F
	3) Non illumina correttamente la strada	V	F
153 	7) Il segnale n. 153 indica:		
	1) Che la strada può essere percorsa solo nel senso indicato dal segnale	V	F
	2) Il divieto di svoltare a destra o sinistra	V	F
	3) Un senso unico alternato	V	F
718 	8) Il simbolo rappresentato in figura n. 718:		
	1) È collocato su una spia di colore verde	V	F
	2) Individua una spia luminosa di colore giallo	V	F
	3) Identifica il comando di accensione della luce posteriore per nebbia	V	F
	9) Durante l'espletamento di un servizio urgente d'istituto, quali dispositivi supplementari devo usare?		
	1) Luci di emergenza accese e lampeggianti blu	V	F
	2) Lampeggianti blu, sirena in maniera simultanea e continuativa	V	F
	3) Lampeggianti blu, sirena e luci anabbaglianti	V	F
	10) Per effettuare una chiamata radio da un mezzo CRI ad una postazione fissa devo?		
	1) Ripetere due volte il mio identificativo e poi quello di chi si chiama	V	F
	2) Chiamare prima il codice del chiamato poi la propria sigla	V	F
	3) Utilizzare, se conosciuta la codifica del terminale chiamato	V	F



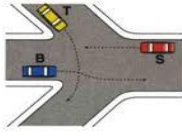



Per ciascuna risposta **V** se ritenuta vera **F** se ritenuta falsa

24 	1) In presenza del segnale n. 24, opportunamente integrato, è necessario:		
	1) In caso di pioggia, moderare la velocità ed evitare brusche frenate	V	F
	2) In caso di pioggia, accelerare bruscamente	V	F
	3) In caso di ghiaccio, moderare la velocità ed evitare brusche accelerate	V	F
	2) Gli ammortizzatori scarichi provocano:		
	1) Un maggior consumo di lubrificante	V	F
	2) Un minor caricamento laterale del veicolo in curva	V	F
	3) Un comportamento anomalo del veicolo in frenata	V	F
151 	3) Il segnale n. 151:		
	1) Indica il divieto di transito per le categorie dei veicoli rappresentate in figura	V	F
	2) È un divieto di transito per determinate categorie di veicoli	V	F
	3) Preavvisa un segnale di divieto per autocarri ed autotreni	V	F
	4) La distanza di sicurezza dipende:		
	1) Dalla velocità del veicolo	V	F
	2) Dalla larghezza della carreggiata	V	F
	3) Dal tempo di reazione del conducente	V	F
665 	5) Nell'incrocio rappresentato in figura n. 665:		
	1) I veicoli disimpegnano l'incrocio nel seguente ordine: A, H, C, E, V	V	F
	2) I veicoli disimpegnano l'incrocio nel seguente ordine: A, E, C, V, H	V	F
	3) Il veicolo E può passare prima del veicolo H	V	F
	6) I dispositivi di segnalazione acustica (clacson, trombe):		
	1) Possono usarsi in un centro abitato in prossimità di un ospedale	V	F
	2) Si possono utilizzare fuori dai centri abitati, se è consigliabile, per evitare incidenti	V	F
	3) Debbono usarsi sempre fuori dai centri abitati, se si intende sorpassare	V	F
245 	7) Il segnale di figura n. 245:		
	1) Delimita con la striscia gialla una pista ciclabile	V	F
	2) Se di colore verde, è installato lungo un'autostrada	V	F
	3) Indica che le corsie di sinistra sono destinate al traffico normale	V	F
720 	8) Il simbolo rappresentato in figura n. 720:		
	1) Individua una spia luminosa	V	F
	2) Individua il comando delle luci di stazionamento	V	F
	3) Contrassegna la spia del freno di stazionamento	V	F
	9) Cosa si deve fare alla guida di un'ambulanza durante un soccorso urgente, all'intimazione di ALT da parte delle forze dell'ordine?		
	1) Occorre fermarsi	V	F
	2) Non si è tenuti a fermarsi	V	F
	3) Si può proseguire il servizio e la Polizia potrà seguire l'ambulanza	V	F
	10) Come si deve comportare un conducente di ambulanza, quando i pedoni tardano a scansarsi?		
	1) Deve azionare i dispositivi di allarme senza aumentare la velocità	V	F
	2) Deve fermarsi solo se i pedoni sono su un' attraversamento pedonale	V	F
	3) Deve in ogni caso rallentare e all'occorrenza fermarsi	V	F

Per ciascuna risposta **V** se ritenuta vera **F** se ritenuta falsa

7 	1) In presenza del segnale n. 7, posto su una carreggiata a due corsie e a doppio senso:		
	1) È consentito effettuare la fermata, sia in prossimità che in corrispondenza delle curve	V	F
	2) È necessario regolare la velocità in relazione alle condizioni del carico del veicolo	V	F
	3) È opportuno fare particolare attenzione ai veicoli provenienti dal senso opposto	V	F
	2) Una zona a traffico limitato può essere:		
	1) Un'area sempre e comunque esclusa al traffico dei veicoli a motore	V	F
	2) Un'area nella quale la circolazione è riservata a particolari categorie di utenza	V	F
	3) Una zona nella quale non può accedere più di un certo numero di veicoli	V	F
95 	3) Il segnale n. 95:		
	1) Indica l'inizio del senso unico di circolazione nella svolta a destra	V	F
	2) Posto prima di un incrocio, non consente di proseguire dritto	V	F
	3) È un segnale di indicazione	V	F
	4) Nella fase di rientro dal sorpasso il conducente deve:		
	1) Distanziarsi di almeno 100 metri dal veicolo sorpassato	V	F
	2) Affrettare la manovra in autostrada onde evitare la formazione di code	V	F
	3) Rientrare repentinamente, soprattutto in caso di pioggia	V	F
640 	5) Secondo le norme di precedenza, possono impiegare l'incrocio rappresentato in figura n. 640:		
	1) Il veicolo R senza dare la precedenza ad alcun veicolo	V	F
	2) Il veicolo B dopo l'attraversamento dei veicoli R e D	V	F
	3) Il veicolo B contemporaneamente al veicolo R e prima di quello D	V	F
718 	6) Il simbolo rappresentato in figura n. 718:		
	1) Contraddistingue la spia di accensione delle luci posteriori per nebbia	V	F
	2) È posto sul comando di accensione dei proiettori fendinebbia anteriori	V	F
	3) Individua una spia luminosa di colore giallo	V	F
77 	7) Il segnale n. 77:		
	1) Consente il transito a tutti gli autosnodati per trasporto persone	V	F
	2) Si applica solo agli autoveicoli per il trasporto merci	V	F
	3) Si applica anche agli autobus	V	F
567 	8) Rispetto al veicolo che procede nel senso della freccia, la segnaletica orizzontale rappresentata in figura n. 567:		
	1) Può trovarsi prima di entrare in curva	V	F
	2) Viene impiegata subito dopo un dosso	V	F
	3) Viene impiegata subito prima di un incrocio	V	F
	9) Un'ambulanza che proviene da sinistra, ha la precedenza?		
	1) Sì, sempre	V	F
	2) La chiede solo quando ha in funzione i segnali d'allarme	V	F
	3) No, in nessun caso	V	F
	10) Come deve essere trasportato un sospetto fratturato di colonna vertebrale?		
	1) Con urgenza	V	F
	2) Con precauzione, senza fretta	V	F
	3) Usando ogni cautela, evitando sobbalzi e brusche frenate	V	F

Per ciascuna risposta **V** se ritenuta vera **F** se ritenuta falsa

30 	1) Il segnale n. 30:		
	1) Comporta particolare prudenza quando si effettuano manovre di retromarcia	V	F
	2) Può presegnalare un ponte interrotto	V	F
	3) Può presegnalare un tratto di strada interrotta per alluvione	V	F
	2) Quando si vuole cambiare corsia:		
	1) In prossimità degli incroci, si può sempre farlo prima della striscia di arresto	V	F
	2) Bisogna accertare che la corsia da impegnare sia libera anteriormente per un tratto sufficiente	V	F
	3) Ci si deve accertare che la striscia di delimitazione della corsia sia tratteggiata	V	F
85 	3) Il segnale n. 85:		
	1) Consente la fermata se il veicolo non arreca intralcio alla circolazione	V	F
	2) Lungo le strade dove è posto vale 24 ore su 24	V	F
	3) Lungo le strade urbane indica che il divieto di fermata vige dalle ore 8 alle ore 20	V	F
	4) La squilibratura dei freni può dipendere da:		
	1) Eccessivo gioco del pedale del freno	V	F
	2) Pistoncino bloccato nel cilindretto	V	F
	3) Differente pressione di gonfiaggio dei pneumatici anteriori rispetto a quelli posteriori	V	F
616 	5) Nell'incrocio rappresentato in figura n. 616:		
	1) Il veicolo B passa per primo	V	F
	2) I veicoli transitano nel seguente ordine: B, T, S	V	F
	3) I veicoli B ed S possono passare contemporaneamente	V	F
163 	6) Il segnale n. 163:		
	1) Presegnala l'obbligo di arresto ad un varco doganale presso la frontiera con un paese della CEE	V	F
	2) È posto sul comando di accensione dei proiettori fendinebbia anteriori	V	F
	3) Non obbliga ad arrestarsi per il controllo doganale al confine di stato	V	F
141 	7) Il pannello integrativo n. 141:		
	1) Indica che in caso di avaria il veicolo deve essere obbligatoriamente rimosso	V	F
	2) È posto dove la sosta di un veicolo costituisce grave intralcio alla circolazione	V	F
	3) Prevede lo spostamento del veicolo o il blocco dello stesso con attrezzo a chiave	V	F
546 	8) La striscia gialla a zig zag in figura n. 546:		
	1) Consente alle autovetture la fermata	V	F
	2) Interessa solo gli autobus	V	F
	3) Vieta il transito ai veicoli	V	F
	9) Come ci si comporta in emergenza dietro ad un veicolo in prossimità di un dosso o di una curva cieca?		
	1) Si sorpassa solo se il veicolo che precede favorisce il sorpasso	V	F
	2) Si sorpassa, in quanto i dispositivi di allarme danno diritto di precedenza	V	F
	3) Non si sorpassa fino a quando la visibilità non lo consente	V	F
	10) In emergenza di fronte ad un divieto di transito, come ci si comporta?		
	1) Si prosegue azionando i dispositivi supplementari di allarme	V	F
	2) Si prosegue solo se si conosce il motivo per cui è stato collocato il segnale	V	F
	3) Si prosegue rapidamente in modo da sgomberare la strada il più rapidamente possibile	V	F







Per ciascuna risposta **V** se ritenuta vera **F** se ritenuta falsa

11 	1) Il segnale DOPPIA CROCE DI S. ANDREA (figura n. 11):		
	1) È posto a 150 metri dal passaggio a livello	V	F
	2) Invita a fare attenzione perché potrebbe arrivare un altro treno su un altro binario	V	F
	3) Indica che la linea ferroviaria ha solo due binari	V	F
	2) La distanza di sicurezza di un veicolo rispetto a quello che lo precede deve essere:		
	1) Valutata in relazione alle condizioni atmosferiche	V	F
	2) Tale da evitare collisioni con i veicoli che precedono	V	F
	3) Di almeno 100 metri in caso di nevicata in atto	V	F
62 	3) Il segnale n. 62:		
	1) Si può trovare all'imbocco di una passerella pedonale	V	F
	2) Consente il transito agli autoveicoli	V	F
	3) Vieta il traffico ai ciclomotori	V	F
161 	4) I segnali luminosi della figura n. 161:		
	1) Si accendono soltanto uno per volta	V	F
	2) Indicano le velocità consigliate anche a semaforo spento	V	F
	3) Indicano di procedere con prudenza se a luce lampeggiante gialla	V	F
638 	5) Nell'incrocio rappresentato nella figura 638, il conducente del veicolo B:		
	1) Ha la destra libera, in relazione alla sua destinazione	V	F
	2) Deve impegnare per ultimo l'incrocio perché svolta a sinistra	V	F
	3) Può concludere la manovra di svolta a sinistra dopo il transito del veicolo N	V	F
96 	6) Il segnale n. 96:		
	1) Preavvisa che non è consentito proseguire dritto o svoltare a sinistra	V	F
	2) È un segnale di indicazione	V	F
	3) Può essere integrato con un pannello che indica la distanza dal punto in cui vige l'obbligo	V	F
706 	7) Il simbolo rappresentato in figura n. 706:		
	1) È posto sulla spia di controllo del livello olio nella coppa del motore	V	F
	2) Posto su una spia accesa, indica l'eccessiva temperatura dell'olio motore	V	F
	3) È posto su un dispositivo che dà indicazioni sulla pressione del lubrificante nel motore	V	F
	8) La sospensione della patente è disposta:		
	1) Quando il titolare affidi la guida del proprio veicolo a chi è privo di patente	V	F
	2) Quando si circola abusivamente con un veicolo sottoposto a sequestro	V	F
	3) Quando siano violate le disposizioni sull'equipaggiamento dei veicoli con cinture di sicurezza	V	F
	9) Un'ambulanza che provenga da sinistra ha la precedenza?		
	1) Sì, sempre	V	F
	2) La chiede solo quando ha in funzione i segnali di allarme	V	F
	3) No, in nessun caso	V	F
	10) Durante il trasporto di un malato, è consentito al barelliere di sedere accanto all'autista?		
	1) Sì, se il malato non è grave ed è accompagnato da parenti	V	F
	2) No, mai	V	F
	3) Sì, se il malato non è in pericolo di vita	V	F

Per ciascuna risposta **V** se ritenuta vera **F** se ritenuta falsa

42 	1) Il segnale n. 42:		
	1) Può presegnalare un incrocio a T, in cui bisogna dare la precedenza	V	F
	2) È un preavviso di dare la precedenza sia a destra che a sinistra	V	F
	3) Indica la distanza dal prossimo segnale di stop	V	F
	2) Su strade extraurbane principali il limite massimo di velocità è di:		
	1) 100 Km/h per autocarri di massa complessiva fino a 3,5 t	V	F
	2) 110 Km/h per autoveicoli adibiti al trasporto di persone o cose fino a 3,5 t	V	F
	3) 100 Km/h per motocicli	V	F
284 	3) Il segnale di figura n. 284:		
	1) È di direzione obbligatoria per autotreni ed autoarticolati	V	F
	2) Preavvisa "direzione obbligatoria" per autocarri in transito	V	F
	3) Obbliga tutti i veicoli a proseguire dritto	V	F
203 	4) Il segnale n. 203 si può trovare:		
	1) In un tratto di strada che collega il comune ad una frazione	V	F
	2) Per segnalare una strada a due corsie delimitate sulla carreggiata	V	F
	3) Ad integrazione di segnali di direzione	V	F
654 	5) Nella situazione rappresentata in figura n. 654:		
	1) Il veicolo A deve attendere il transito del veicolo H	V	F
	2) Il veicolo A deve attendere il transito dei veicoli C ed R	V	F
	3) I veicoli transitano nel seguente ordine: C, R, A, H	V	F
	6) In caso di strada sdrucchiolevole il conducente deve:		
	1) Percorrere le forti discese con il cambio in folle, controllando la velocità tramite il freno	V	F
	2) Aumentare la distanza di sicurezza dal veicolo che lo precede	V	F
	3) Cercare di procedere a velocità quanto più possibile moderata e uniforme	V	F
	7) La sospensione della patente è disposta:		
	1) Quando il titolare di patente speciale, guida veicoli con adattamenti diversi da quelli prescritti	V	F
	2) Qualora sorgano dubbi sulla persistenza dell'idoneità alla guida	V	F
	3) Qualora il titolare guidi con patente la cui validità sia scaduta	V	F
	8) In relazione al contratto di assicurazione R.C.A. stipulato, l'impresa assicuratrice deve rilasciare al contraente:		
	1) Un manuale completo sulle cautele da osservare per evitare incidenti	V	F
	2) Il certificato di assicurazione da esibire a richiesta assieme alla carta di circolazione	V	F
	3) Un attestato annuo relativo allo stato di rischio	V	F
	9) Alla guida di un'ambulanza, è possibile il sorpasso a destra?		
	1) Sì, in alcuni casi particolari	V	F
	2) Sì, sempre	V	F
	3) No, mai	V	F
	10) Giungendo sul luogo dell'incidente, qual è il compito dell'equipaggio?		
	1) L'autista compila il rapportino, mentre il barelliere presta i primi soccorsi	V	F
	2) L'autista parcheggia il mezzo nel modo più idoneo per il soccorso, mentre il barelliere provvede a valutare la situazione e iniziare il soccorso	V	F
	3) L'autista provvede a valutare la situazione, mentre il barelliere attende i suoi ordini	V	F




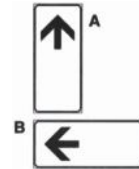
Per ciascuna risposta **V** se ritenuta vera **F** se ritenuta falsa

9		1) In presenza del segnale n. 9:	
	1) È necessario rallentare per poter arrestare il veicolo prima dell'attraversamento ferroviario	V	F
	2) È possibile attraversare i binari anche se sbarrati da cavalletti a strisce bianche e rosse	V	F
	3) È necessario rallentare in relazione alla visibilità che presenta il passaggio a livello	V	F
126		2) Il pannello integrativo di figura n. 126:	
	1) Posto sotto il segnale SENSO VIETATO consente l'accesso alla sola categoria di veicoli indicata	V	F
	2) Posto sotto il segnale PARCHEGGIO indica un'area destinata alla sosta dei veicoli indicati	V	F
	3) Può integrare un segnale di divieto	V	F
78		3) Il segnale n. 78:	
	1) Consente il transito di una macchina agricola di massa a pieno carico pari a 7 t	V	F
	2) Vieta il transito ai soli autoveicoli per trasporto merci di massa superiore a 7 t	V	F
	3) Si può trovare prima di un ponte	V	F
	4) L'autostrada:		
	1) È aperta alla circolazione dei motocicli aventi cilindrata di 125 cc	V	F
	2) È riservata alla circolazione di alcune categorie di veicoli a motore	V	F
	3) È aperta alla circolazione dei motocicli con cilindrata di almeno 150 cc	V	F
647		5) Secondo le norme di precedenza nell'incrocio rappresentato in figura n. 647:	
	1) Il veicolo O può transitare prima del veicolo H, ma dopo il veicolo B	V	F
	2) Il veicolo B transita prima del veicolo O e dopo i veicoli L e H	V	F
	3) Il veicolo O può impegnare l'incrocio per primo e si ferma al centro di esso	V	F
521		6) Due strisce bianche discontinue che attraversano la carreggiata indicano (figura n. 521):	
	1) Attraversamento per pedoni	V	F
	2) Attraversamento ciclabile obliquo	V	F
	3) Precedenza	V	F
102		7) Il segnale 102 significa:	
	1) Passaggio obbligatorio a destra	V	F
	2) Che non è consentito superare l'ostacolo a sinistra	V	F
	3) Che non è possibile proseguire su quella strada	V	F
	8) È obbligatorio dare la precedenza a destra e a sinistra:		
	1) Quando si impegna una zona soggetta a circolazione rotatoria	V	F
	2) Negli incroci regolati da semaforo a luce gialla lampeggiante	V	F
	3) Quando si svolta a sinistra	V	F
	9) Quante persone è possibile trasportare su un'ambulanza?		
	1) Un numero tale da non superare quanto stabilito dall'omologazione del mezzo	V	F
	2) Una o due	V	F
	3) Tante quante ne consente la capienza del mezzo	V	F
	10) Il paziente in imminente pericolo di vita rifiuta il trasporto:		
	1) Avvisiamo le forze dell'ordine	V	F
	2) Lo costringiamo a salire in ambulanza	V	F
	3) Lo lasciamo dov'è e rientriamo in sede	V	F



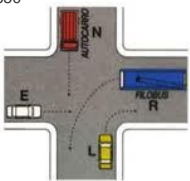



Per ciascuna risposta **V** se ritenuta vera **F** se ritenuta falsa

22 	1) Il segnale n. 22:		
	1) Può essere integrato con il pannello distanziometrico a tre barre rosse	V	F
	2) Impone di fermarsi prima di attraversare il ponte	V	F
	3) Può essere seguito da un dispositivo ottico con luce o luci rosse lampeggianti	V	F
	2) Nella fase di sorpasso, il conducente è tenuto a:		
	1) Mantenere in ogni caso la stessa marcia ed accelerare a fondo	V	F
	2) Mantenere una velocità almeno il doppio di quella del veicolo sorpassato	V	F
	3) Iniziare la manovra a distanza non inferiore a quella di sicurezza	V	F
60 	3) Il segnale n. 60:		
	1) Fa riferimento alla massa a vuoto dei veicoli	V	F
	2) Vieta agli autocarri di massa superiore a 3,5 t il sorpasso di motocicli	V	F
	3) Consente ad un autobus da 18 t di sorpassare un autotreno	V	F
162 	4) Il dispositivo di figura n. 162:		
	1) Può essere integrato con il pannello distanziometrico di passaggio a livello	V	F
	2) Di norma è posto sul lato destro della strada	V	F
	3) Entra in funzione subito prima dell'inizio dell'abbassamento delle semisbarre	V	F
650 	5) Nell'incrocio rappresentato nella figura n. 650, il conducente del veicolo E:		
	1) Passa prima dell'autocarro N, dopo il transito del veicolo L	V	F
	2) Deve dare la precedenza al veicolo L	V	F
	3) Passa per primo	V	F
93 	6) Il segnale n. 93:		
	1) Impone la marcia in un'unica fila	V	F
	2) È un segnale di divieto	V	F
	3) È un segnale di corsia	V	F
	7) La revisione della patente di guida può essere disposta:		
	1) Per perdita permanente dei requisiti fisici e psichici prescritti	V	F
	2) Dagli uffici della Motorizzazione Civile e dal Prefetto	V	F
	3) Quando il titolare non sia più in possesso dei requisiti morali richiesti	V	F
304 	8) I pannelli a strisce oblique gialle e rosse raffigurati in figura n. 304:		
	1) Delimitano l'ingombro laterale degli autocarri	V	F
	2) Sono retroflettenti e fluorescenti, per migliorare la visibilità notturna del veicolo	V	F
	3) Sono obbligatori per tutti gli autoveicoli per trasporto di cose che superano a pieno carico 3,5 t	V	F
	9) Come deve essere trasportato un paziente con diagnosi di infarto cardiaco?		
	1) Velocemente ma con precauzione	V	F
	2) Con la massima prudenza evitando percorsi lunghi e sconnessi	V	F
	3) Alla massima velocità consentita dal mezzo	V	F
	10) Durante l'espletamento di un servizio urgente, si incontra un'incidente stradale, come ci si comporta?		
	1) Ci si ferma a prestare soccorso proseguendo poi per completare il precedente servizio	V	F
	2) Si prosegue lasciando, se possibile, un barelliere a prestare soccorso e avvisando via radio la Centrale Operativa per l'intervento di altre ambulanze	V	F
	3) Ci si ferma a prestare soccorso, inviando un'altra ambulanza sul luogo della prima richiesta	V	F

Per ciascuna risposta **V** se ritenuta vera **F** se ritenuta falsa

74 	1) Il segnale n. 74:		
	1) Consente il transito alle autocisterne che trasportano acqua	V	F
	2) Indica una zona soggetta ad allagamento	V	F
	3) Segnala la probabile presenza di acqua sulla carreggiata	V	F
	2) L'elevata pericolosità del sorpasso è determinata da:		
	1) Presenza di autocarri in rallentamento sulle strade a senso unico	V	F
	2) Possibilità di collisione, in fase di rientro in corsia, con il veicolo sorpassato	V	F
	3) Possibilità di collisione, in fase di avvicinamento, con il veicolo da sorpassare	V	F
117 	3) Il segnale n. 117:		
	1) Indica la prossimità di un maneggio	V	F
	2) Indica la fine di un passaggio riservato per quadrupedi da soma	V	F
	3) È un divieto di transito per cavalli	V	F
	4) Le strisce bianche longitudinali discontinue:		
	1) Consentono l'inversione di marcia in condizioni di sicurezza	V	F
	2) Sono poste a separazione delle strade a quattro corsie, due per ogni senso di marcia	V	F
	3) Possono essere superate sempre che siano rispettate tutte le altre norme di circolazione	V	F
652 	5) Secondo le norme di precedenza nell'incrocio in figura n. 652:		
	1) Il veicolo A deve attendere il transito del veicolo H	V	F
	2) Il veicolo F può passare per primo	V	F
	3) Il veicolo H deve attendere il transito del veicolo L	V	F
	6) Lungo le autostrade:		
	1) L'uso dei proiettori di profondità è vietato nei tratti provvisti di illuminazione sufficiente	V	F
	2) La sosta su corsia di emergenza è consentita per avaria che renda il veicolo inutilizzabile	V	F
	3) La corsia d'emergenza si può sempre usare per la marcia dei veicoli in caso di traffico intenso	V	F
	7) In caso di nebbia fitta, è opportuno:		
	1) Se costretti a fermarsi su carreggiata, usare la segnalazione luminosa di pericolo	V	F
	2) Accendere i proiettori fendinebbia o, in mancanza, quelli anabbaglianti	V	F
	3) Usare le luci abbaglianti con fascio di profondità	V	F
128 	8) Ciascuno dei pannelli integrativi n. 128:		
	1) Indica il punto d'inizio della prescrizione imposta dal segnale	V	F
	2) Posto sotto un segnale indica la fine della prescrizione	V	F
	3) Sotto il segnale PERCORSO PEDONALE indica il punto da cui non è consentito il transito dei veicoli	V	F
	9) Alla guida di un'ambulanza che non sia in servizio di emergenza a quale velocità devo attraversare un centro abitato?		
	1) A non più di 30 Km/h	V	F
	2) A non più di 50 Km/h	V	F
	3) A non più di 70 Km/h	V	F
	10) Da chi dovrebbe essere composto l'equipaggio tipo per trasporti non urgenti, secondo regolamento?		
	1) Autista	V	F
	2) Autista e barelliere	V	F
	3) Autista e due barellieri	V	F

Per ciascuna risposta **V** se ritenuta vera **F** se ritenuta falsa






53		1) In presenza del segnale n. 53:		
		1) Si deve usare prudenza nella strettoia perchè la circolazione si svolge a doppio senso	V	F
		2) I veicoli provenienti dal senso opposto devono dare la precedenza; occorre comunque prudenza	V	F
		3) Dobbiamo tenere bene la destra, per consentire il passaggio anche ai veicoli che vengono di fronte	V	F
		2) La corsia di accelerazione:		
		1) È riservata all'effettuazione dei sorpassi	V	F
		2) È destinata ai veicoli veloci	V	F
		3) Consente ai veicoli l'ingresso in una carreggiata	V	F
84		3) Il segnale n. 84:		
		1) Preavvisa un divieto di fermata	V	F
		2) Consente la sosta nel tratto precedente	V	F
		3) Nelle strade extraurbane, consente la sosta dopo le ore 20	V	F
		4) Se per rottura dell'impianto frenante, l'efficienza dei freni è limitata alle sole ruote dell'asse posteriore, è consigliabile:		
		1) Controllare il livello del liquido dei freni	V	F
		2) Ridurre la distanza di sicurezza dal veicolo che precede	V	F
		3) Ridurre la velocità	V	F
650		5) Secondo le norme di precedenza nell'incrocio rappresentato in figura 650:		
		1) Il veicolo E deve attendere il transito del veicolo L	V	F
		2) Il veicolo R (filobus) ha la precedenza sugli altri veicoli	V	F
		3) Il veicolo R deve attendere il transito dei veicoli E ed N	V	F
160		6) Dei tre segnali rappresentati nella figura n. 160:		
		1) Il tipo A può essere posto in corrispondenza di punti pericolosi	V	F
		2) I tipi B e C sono affiancati ad un semaforo veicolare	V	F
		3) Il tipo C indica che nelle svolte a destra i veicoli debbono dare la precedenza ai velocipedi	V	F
150		7) Il segnale n. 150:		
		1) Preavvisa un itinerario preferenziale per autocarri oltre 3,5 t	V	F
		2) Preavvisa il divieto di svoltare a destra per i veicoli rappresentati in figura	V	F
		3) Indica la direzione consigliata per gli autocarri in transito	V	F
282		8) Il segnale n. 282:		
		1) Segnala la distanza dal punto di deviazione per lavori in corso	V	F
		2) Indica una deviazione con circolazione a senso unico verso Novara	V	F
		3) È integrato con la lunghezza della deviazione	V	F
		9) Alla guida di un'ambulanza, è possibile il sorpasso a destra?		
		1) Sì, in alcuni casi	V	F
		2) Sì, sempre	V	F
		3) No, mai	V	F
		10) L'elisoccorso ha confermato il suo intervento:		
		1) Si portano i primi soccorsi e, in caso di aggravamento, si carica il ferito e si trasporta presso il più vicino Pronto Soccorso	V	F
		2) Si portano i primi soccorsi e in ogni modo si attende l'arrivo dell'elicottero	V	F
		3) Assieme al barelliere, si valuta la situazione e la si comunica via radio al medico	V	F

Per ciascuna risposta **V** se ritenuta vera **F** se ritenuta falsa

43 	1) Il segnale n. 43:		
	1) È posto a 320 mt. dal segnale DARE PRECEDENZA	V	F
	2) Si trova solo nelle strade urbane	V	F
	3) Avverte che dobbiamo fermarci 20 mt. dopo il segnale e dare precedenza	V	F
	2) Su tutte le strade (e le loro pertinenze) è vietato:		
	1) Accedere con le ruote dei veicoli sporche di fango	V	F
	2) Gettare dai veicoli in movimento qualsiasi cosa	V	F
	3) Transitare nelle zone riservate al parcheggio	V	F
109 	3) Il segnale n. 109:		
	1) Indica la fine di un attraversamento pedonale	V	F
	2) Vieta l'attraversamento pedonale	V	F
	3) Indica la fine del percorso pedonale	V	F
236 	4) Il segnale di figura n. 236:		
	1) Indica l'inizio di una pista ciclabile	V	F
	2) Su strade extraurbane deve essere preceduto dal triangolo di pericolo ATTRAVERSAMENTO CICLABILE	V	F
	3) È abbinato alle strisce di attraversamento ciclabile	V	F
657 	5) Secondo le norme di precedenza nell'incrocio rappresentato in figura n. 657:		
	1) Il veicolo A transita dopo il veicolo R	V	F
	2) Il veicolo C deve dare la precedenza al veicolo A	V	F
	3) Il veicolo C non deve dare la precedenza ad alcun veicolo	V	F
66 	6) Il segnale n. 66:		
	1) Consente il transito agli autocarri	V	F
	2) Non si applica ai Taxi	V	F
	3) Permette il transito ai ciclomotori a due ruote	V	F
383 	7) Se il vigile è a braccia aperte e distese perpendicolarmente alla nostra direzione di marcia come in figura n. 383:		
	1) Possiamo passare solo se svoltiamo a destra, dando però la precedenza ai pedoni che attraversano	V	F
	2) Dobbiamo fermarci prima della striscia trasversale di arresto	V	F
	3) Si può svoltare, ma non proseguire dritto	V	F
	8) La corsia di decelerazione:		
	1) È riservata ai veicoli lenti	V	F
	2) Agevola l'uscita dei veicoli da una carreggiata	V	F
	3) È destinata al rallentamento dei veicoli	V	F
	9) Le manifestazioni iniziali dello stato di shock sono:		
	1) Pallore, sudorazione fredda, stato di agitazione, battiti del cuore deboli ma frequenti	V	F
	2) Presenza di brividi, pelle molto pallida e sudorazione fredda alla fronte	V	F
	3) Improvvisa pronuncia di frasi e parole senza senso	V	F
	10) In emergenza, nel centro abitato, è possibile tenere una velocità superiore al limite imposto dal codice della strada?		
	1) Sì, mantenendo una velocità di sicurezza	V	F
	2) No, mai	V	F
	3) Sì, purché non costituisca pericolo per tutti gli altri utenti della strada	V	F



Per ciascuna risposta **V** se ritenuta vera **F** se ritenuta falsa

48 	1) Il segnale n. 48:		
	1) Presegnala un incrocio a T con strada secondaria che si immette da destra	V	F
	2) Presegnala l'incrocio con una strada che non ha diritto di precedenza	V	F
	3) Presegnala un'immissione stradale con corsia di accelerazione	V	F
	2) Gli ammortizzatori scarichi provocano:		
	1) L'usura non uniforme del battistrada dei pneumatici	V	F
	2) La possibile rottura delle molle delle sospensioni	V	F
	3) Un minor coricamento laterale del veicolo in curva	V	F
56 	3) In presenza del segnale rappresentato in figura n. 56, si possono sorpassare:		
	1) I motocicli	V	F
	2) I veicoli a motore che non sono in grado di superare la velocità di 40 Km/h	V	F
	3) I veicoli a trazione animale	V	F
	4) Il passaggio a livello può essere caratterizzato dalla presenza di:		
	1) Pannelli integrativi	V	F
	2) Cavalcavia ferroviario	V	F
	3) Luci rosse	V	F
661 	5) Nell'incrocio rappresentato in figura n. 661:		
	1) Il veicolo E deve passare per ultimo	V	F
	2) I veicoli disimpegnano l'incrocio nel seguente ordine: E, L, C	V	F
	3) I veicoli C ed E possono passare contemporaneamente	V	F
	6) La doppia striscia longitudinale continua:		
	1) Non può essere valicata per svoltare a sinistra	V	F
	2) Consente il sorpasso, ove consentito, senza oltrepassarla	V	F
	3) Può essere superata sempre che siano rispettate tutte le altre norme di circolazione	V	F
97 	7) Il segnale n. 97:		
	1) Indica che è obbligatorio passare a sinistra dell'ostacolo	V	F
	2) Preavvisa l'unica direzione consentita	V	F
	3) Presegnala il senso unico di circolazione nella svolta a sinistra	V	F
145 	8) Il pannello integrativo n. 145 abbinato al segnale DIVIETO DI SOSTA:		
	1) Nei centri urbani segnala che il DIVIETO DI SOSTA è limitato ai giorni ed alle ore indicate	V	F
	2) Limita nel tempo la validità del segnale DIVIETO DI SOSTA	V	F
	3) Indica la presenza di un deposito con probabile uscita di mezzi per la pulizia stradale	V	F
	9) È possibile trainare un'ambulanza?		
	1) Sì, in ogni caso	V	F
	2) Sì, quando non ci sono malati a bordo, rispettando il codice della strada	V	F
	3) No	V	F
	10) In emergenza, di fronte ad un divieto di transito:		
	1) Non si prosegue	V	F
	2) Si prosegue azionando i dispositivi supplementari di allarme	V	F
	3) Si prosegue, se si conosce il motivo per cui è stato posto il segnale	V	F



Correttore Quiz Patente Croce Rossa Italiana mod. 138/05

	1	2	3	4	5	6	7	8	9	10	11	12	13	14	15	16	17	18	19	20
1	V	V	F	F	F	F	V	V	V	V	V	F	V	F	F	F	V	V	V	V
	F	V	V	V	F	F	F	V	F	F	V	F	V	V	F	F	V	V	V	F
	F	F	F	V	V	F	V	F	V	F	F	V	F	F	V	V	F	V	F	F
2	V	V	V	V	F	V	V	F	V	F	V	F	F	F	F	F	F	V	V	V
	F	V	F	F	V	V	V	V	F	F	F	V	F	V	V	F	F	F	F	V
	V	F	V	V	F	F	F	F	V	V	V	V	F	F	F	V	V	V	V	V
3	V	F	V	V	F	F	V	F	F	V	V	V	V	F	F	V	V	F	F	V
	V	F	F	V	V	F	F	F	V	F	V	V	V	V	F	V	F	F	V	F
	F	F	F	V	F	V	V	V	F	V	F	F	V	F	V	F	V	V	F	V
4	F	V	F	V	F	V	F	V	F	V	F	V	F	V	F	V	V	F	F	V
	V	V	V	F	V	F	V	F	V	F	V	V	V	F	V	V	F	F	F	F
	F	F	F	V	V	F	F	V	V	V	V	F	F	F	F	F	F	V	F	F
5	V	V	V	F	V	V	V	V	F	V	F	F	V	V	V	V	V	F	F	F
	V	F	V	V	V	F	F	V	V	F	F	V	F	F	V	F	V	F	V	F
	F	F	F	F	F	F	V	F	F	V	V	F	V	F	V	V	F	V	F	V
6	F	V	F	V	F	F	F	V	V	V	V	F	F	V	V	F	V	V	F	V
	V	F	F	V	V	V	F	F	F	F	F	V	F	F	V	V	F	V	V	F
	V	F	V	F	F	V	V	F	V	V	F	V	F	V	F	F	V	F	V	V
7	F	V	V	F	V	F	F	V	V	F	V	V	F	V	V	F	V	F	F	V
	V	V	F	F	V	V	V	F	F	V	F	V	V	V	F	V	F	V	F	F
	F	F	V	V	V	F	V	F	V	F	F	F	V	V	F	F	V	V	F	V
8	V	F	V	F	V	V	F	F	F	V	F	V	V	F	F	V	F	V	V	V
	F	F	F	V	F	V	V	F	V	F	F	V	F	F	V	F	V	F	V	V
	V	V	F	F	V	V	V	F	F	V	V	F	F	V	F	V	F	V	F	V
9	V	F	F	F	V	F	F	V	F	F	F	V	F	F	V	V	F	V	V	F
	F	F	F	F	F	V	V	F	V	F	F	F	V	F	F	V	V	F	F	F
	F	V	V	V	F	F	F	F	F	V	V	F	F	V	F	F	F	F	F	V
10	V	F	F	F	F	F	V	F	F	V	F	F	F	F	V	F	F	F	F	F
	F	V	F	V	F	V	F	F	V	F	V	V	V	V	F	V	V	F	F	F
	V	F	V	V	V	F	F	V	F	F	F	F	F	F	F	F	F	V	V	V



Correttore Quiz Patente Croce Rossa Italiana mod. 138/05

	21	22	23	24	25	26	27	28	29	30	31	32	33	34	35	36	37	38	39	40
1	V	F	F	F	F	V	F	V	F	V	F	V	F	V	V	V	V	F	F	V
	V	F	V	V	F	V	V	V	F	F	V	F	V	V	F	F	F	V	F	V
	F	F	V	F	F	F	V	F	F	V	V	F	F	F	V	V	F	F	V	F
2	F	V	F	F	V	V	V	F	F	F	F	F	V	F	F	F	F	F	V	V
	V	F	V	F	F	F	V	V	F	F	V	V	V	V	V	F	V	F	V	V
	V	V	F	V	V	V	F	F	V	V	F	V	F	F	V	V	V	V	F	F
3	F	V	F	F	V	V	F	V	F	V	F	F	F	V	V	F	F	F	F	V
	F	V	F	V	V	F	V	V	F	V	V	V	V	F	F	V	V	V	F	F
	V	F	F	V	V	V	F	F	V	F	F	F	F	F	V	V	F	F	V	V
4	V	V	F	F	F	V	V	V	F	V	F	F	V	V	F	F	V	V	F	V
	F	F	V	F	V	F	V	F	V	F	V	V	F	F	V	V	F	F	V	F
	V	V	F	V	F	V	V	V	V	V	F	F	F	V	V	V	V	V	V	V
5	V	F	F	V	F	F	F	F	V	F	V	V	F	F	F	V	V	V	V	F
	F	V	V	V	V	F	V	V	V	F	V	V	F	V	V	V	F	F	V	F
	V	V	F	F	F	V	V	F	V	V	F	F	V	V	F	F	F	V	F	F
6	F	V	V	V	F	V	V	V	V	F	F	F	V	F	F	F	V	V	F	V
	V	F	F	V	F	V	F	V	F	V	V	F	F	V	V	F	V	V	F	V
	F	V	V	F	V	F	F	F	V	F	F	V	V	V	V	F	F	V	V	F
7	F	F	V	F	F	V	V	V	V	F	F	F	F	V	V	F	V	F	F	F
	V	F	F	F	V	F	V	F	F	F	F	V	F	F	V	V	V	F	V	V
	F	F	V	F	F	F	F	V	F	V	V	V	V	F	F	F	F	F	F	F
8	V	F	F	V	V	V	F	F	V	V	V	V	F	F	F	F	V	F	F	V
	F	F	V	V	F	V	V	V	F	F	F	F	V	V	F	V	F	F	V	V
	F	V	F	F	V	F	F	F	F	V	V	F	F	V	F	V	V	V	V	F
9	V	F	F	F	F	F	V	F	F	V	F	F	F	V	V	V	F	V	V	F
	F	V	V	F	F	F	F	F	F	F	V	F	V	F	F	V	V	F	V	V
	F	F	F	V	V	V	F	V	V	F	F	V	F	F	F	F	F	F	F	F
10	F	F	F	V	V	F	V	F	F	F	F	F	F	F	V	F	F	F	V	F
	F	V	V	F	F	V	F	V	V	F	V	V	V	V	F	V	V	V	F	F
	V	F	F	F	F	F	V	F	V	V	V	F	F	F	F	F	F	V	V	V